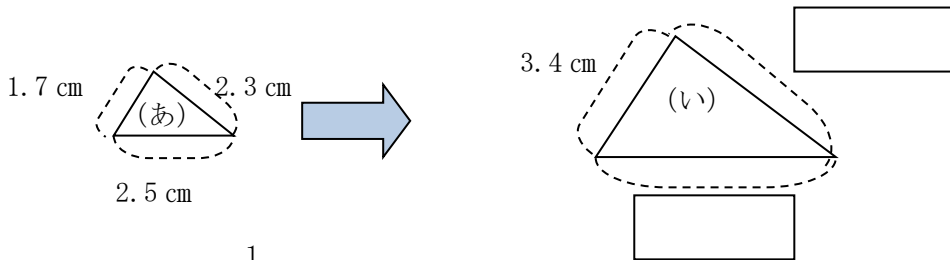


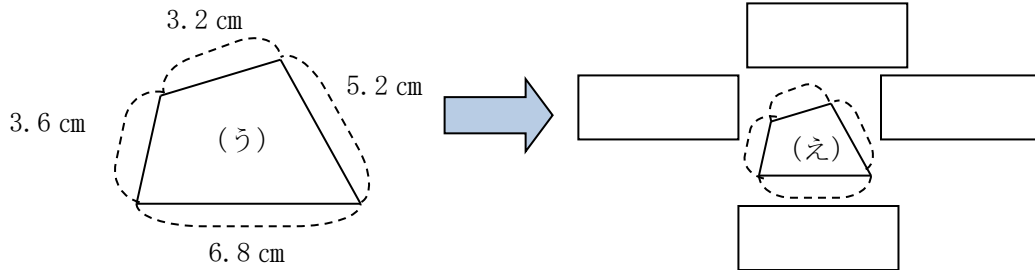
| | | |
|--------------------------------------|---------------|-------------|
| 6年 16 (2) | 縮図や拡大図 | ____年 ____組 |
| | | 名前 |

1 次の問題に答えましょう。

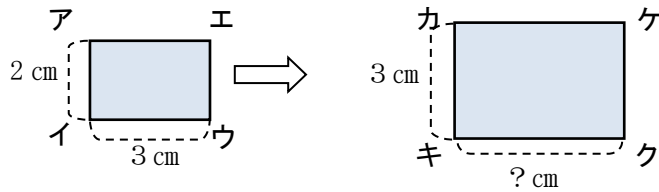
① (い) は (あ) の 2 倍の拡大図です。□に当てはまる数字を入れましょう。



② (え) は (う) の $\frac{1}{2}$ の縮図です。□に当てはまる数字を入れましょう。



2 長方形アイウエの 1. 5 倍の拡大図カキクケをかきます。次の問題に答えましょう。



① 辺カキの長さを 3 cm にしたとき、辺キクの長さは、何 cm になりますか。

答え ()

② 長方形カキクケのたてと横の長さを 1 cm ずつのばしたとき、長方形カキクケは、長方形アイウエの拡大図といえますか。

答え ()