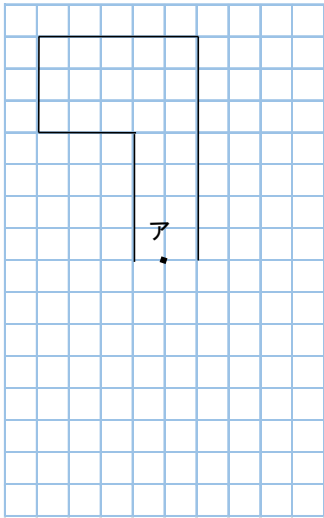


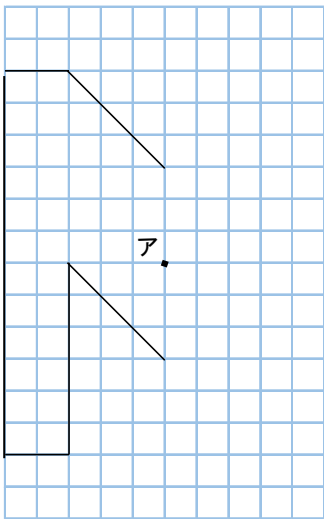
<b>6年</b> <b>15</b> <b>(4)</b>	<b>対称な図形</b>	____年 ____組 名前
--------------------------------------	--------------	-------------------

1 点アを対称の中心とした、点対称な図形の半分を表しています。

① 残り半分をかきましょう。




② 残り半分をかきましょう。



2 点アを対称の中心とした、点対称な図形の半分を表しています。

① 残り半分をかきましょう。



② 残り半分をかきましょう。

