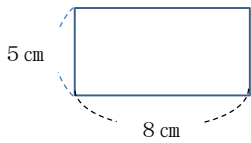


6年 12 (1)	角柱、円柱の体積	年 組
		名前

1 次の問題に答えましょう。

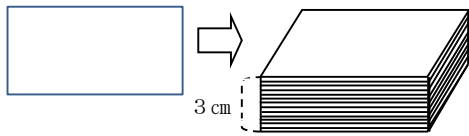
- ① たて5 cm、横8 cmの長方形のカードの面積は、何 cm^2 でしょうか。



式

答え ()

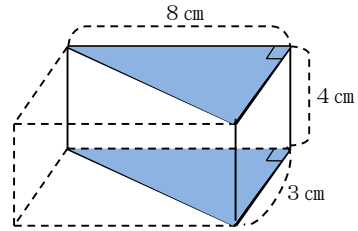
- ② この長方形のカードを3 cmの高さまで積み上げました。体積は、何 cm^3 でしょうか。



式

答え ()

2 次の問題に答えましょう。



- ① ■の部分をもとに という。
 上の図は の形が三角形なので、この立体の名前を という。

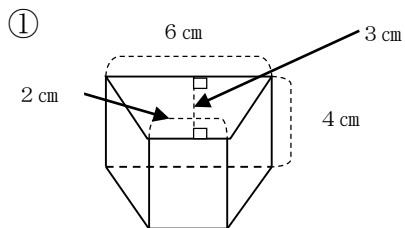
- ② 角柱の体積 = × 高さ

- ③ 体積を求めましょう。

式

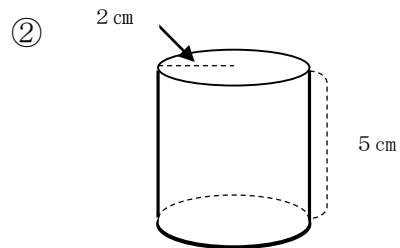
答え ()

3 体積を求めましょう。



式

答え ()



式

答え ()