

6年 11 (5)	円の面積	____年 ____組 名前
--------------------------------------	-------------	-------------------

① 次の形の面積を求めましょう。
(円周率は3.14)

① 半径7cmの円

式

答え ()

② 直径12cmの円

式

答え ()

③ 円周が18.84cmの円の面積と半径の長さ

式

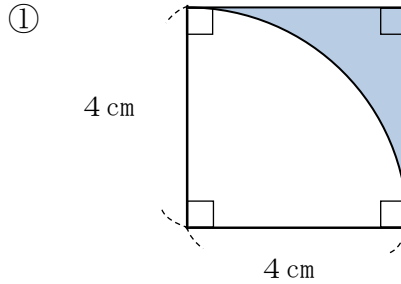
答え ()

④ 円周が15.7cmの円

式

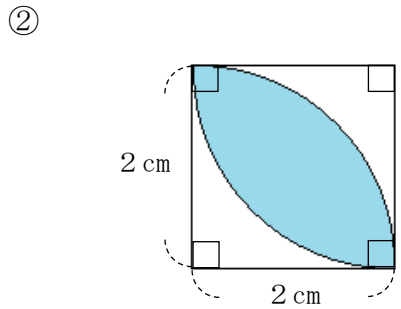
答え ()

② 次の色のついた部分の面積を求め
ましょう。(円周率は3.14)



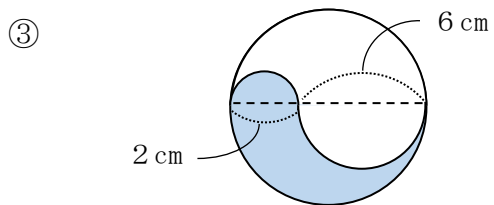
式

答え ()



式

答え ()



式

答え ()