

6年 11 (2)	円の面積	____年 ____組
		名前

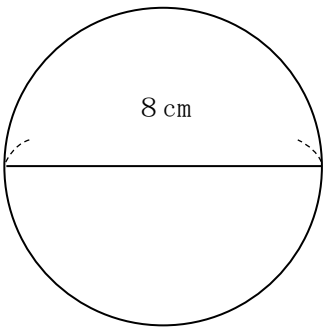
1 次の円の面積を求めましょう。
(円周率は3.14)

① 半径が2cmの円の面積

式

答え ()

② 直径8cmの円の面積



式

答え ()

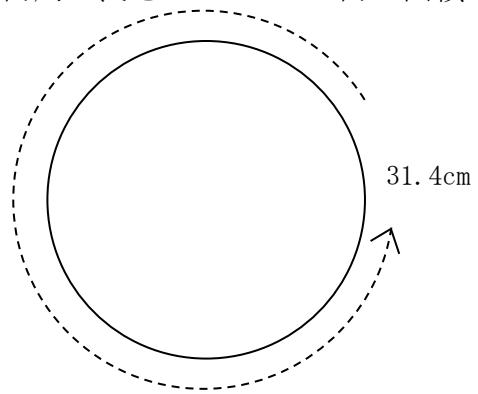
2 次の円の面積を求めましょう。
(円周率は3.14)

① 半径1.5cmの円の面積

式

答え ()

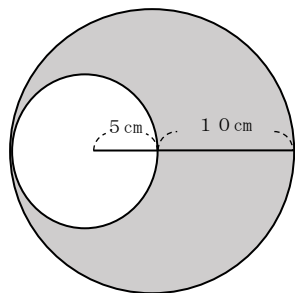
② 円周の長さが31.4cmの円の面積



式

答え ()

3 色の付いた部分の面積を求めましょう。(円周率は3.14)



式

答え ()