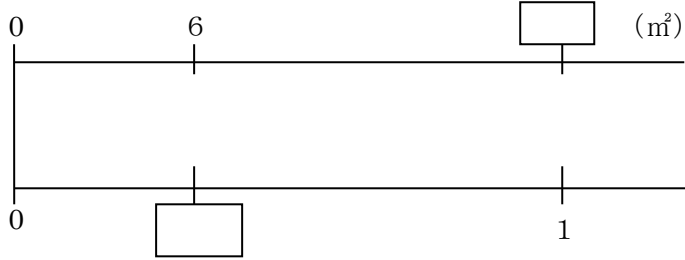


<b>5年</b> <b>9</b> <b>(3)</b>	<b>百分率(割合)</b>	____年 ____組
		名前

① 数直線の□をうめながら、次の問いに答えましょう。

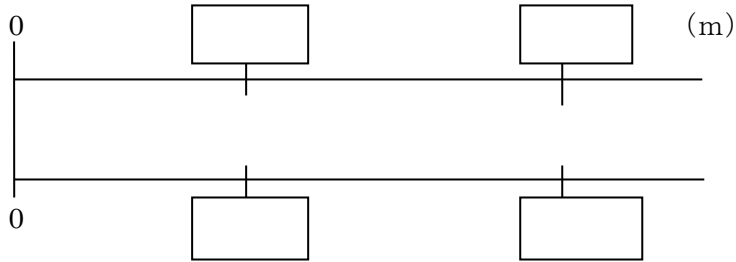
① ある花だん全体の30%は6㎡です。花だん全体は何㎡ですか。



式

答え

② 27.9mは何mの3.72に当たりますか。

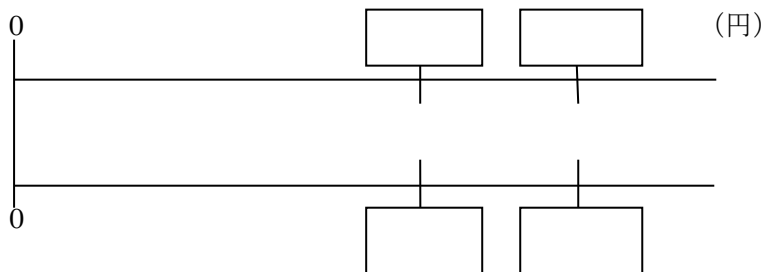


式

答え

③ はじめさんは、筆箱をもとのねだんの70%の1050円で買いました。

筆箱のもとのねだんはいくらですか。



式

答え