





5年 2 (3)	整数と小数の記数法 10倍、100倍、 $1/10$ 、 $1/100$	____年 ____組
		名前

1 次の数を $1/10$ した数、 $1/100$ した数を表に書きましょう。

①

$1/10$			2	.	5					$1/100$
										

②

$1/10$		4	1	.	3					$1/100$
										

2 次の数を $1/10$ 、 $1/100$ した数を書きましょう。

	($1/10$)	($1/100$)
① 3. 5 6	()	()
② 6 2. 5	()	()
③ 2 3 8. 5	()	()

3 計算をしましょう。

- ① $48.4 \div 10 =$
- ② $70.3 \div 100 =$
- ③ $18.84 \div 1000 =$