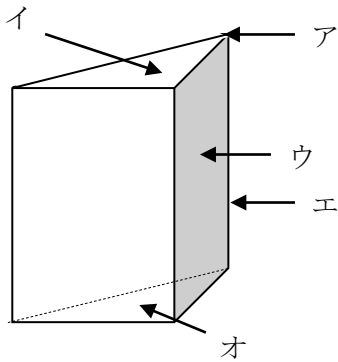


5年 16 (4)	内角の和、角柱、円	____年 ____組
		名前

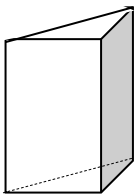
1 下の図の立体を見て、()にあてはまる名前を書きましょう。



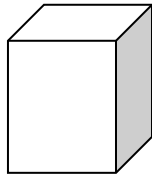
答え ア()
 イ()
 ウ()
 エ()
 オ()

2 それぞれの角柱について、次の問いに答えましょう。

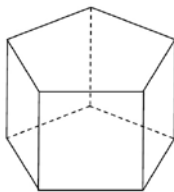
(あ)



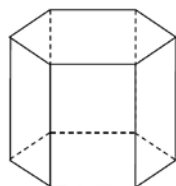
(い)



(う)



(え)



① それぞれの角柱の底面と側面の関係はどうなっていますか。

答え ()

② (い) と (う) の底面は、どんな形をしていますか。

答え (い) ()

(う) ()

③ (え) の面の数はいくつありますか。

答え ()

3 次の①と②のてん開図を組み立てると、どんな立体ができますか。

() に立体の名前を書きましょう。

① 答え ()

② 答え ()