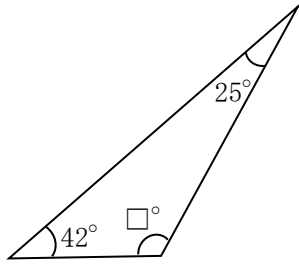


5年 16 (1)	内角の和、角柱、円	____年 ____組
		名前

1 次の図形の□にあてはまる数を求めましょう。

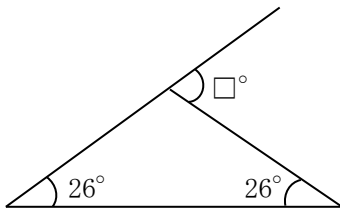
①



式

答え ()

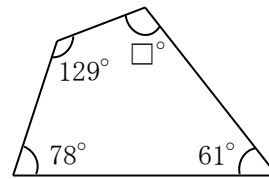
②



式

答え ()

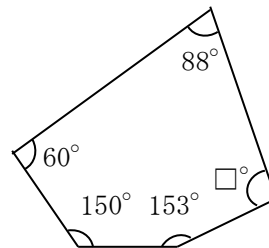
③



式

答え ()

④



式

答え ()