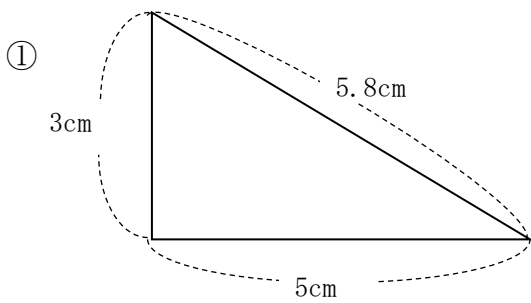
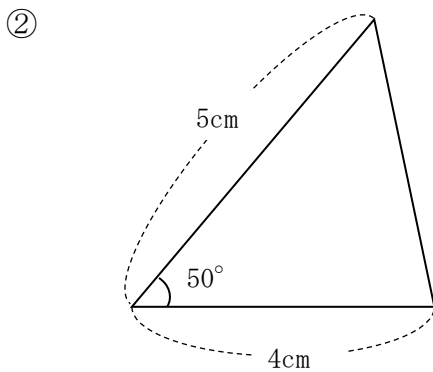


5年 15 (4)	図形の合同	____年 ____組
		名前

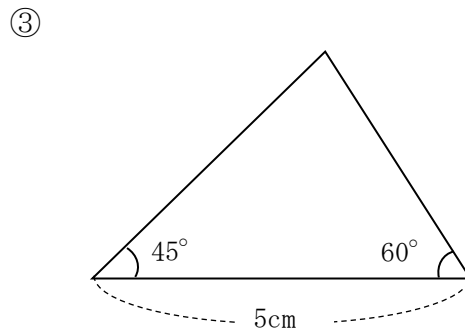
① 次の三角形と合同な三角形をかきましょう。
 (その際、使用した長さや角の大きさを、かいておきましょう。また、コンパスの線などは残しておきましょう。)



①



②



③