


5年 15 (3)	図形の合同	____年 ____組 名前
--------------------------------------	--------------	-------------------

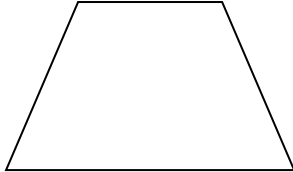
1 次の長方形、平行四辺形、台形、ひし形に、それぞれ1本の対角線をひいて2つの三角形に分けましょう。できた2つの三角形が合同なら、表に○をつけましょう。また、対角線は何本ひけますか。下の表にかきましょう。

①長方形




合同であれば○	()
対角線の本数	() 本

③台形



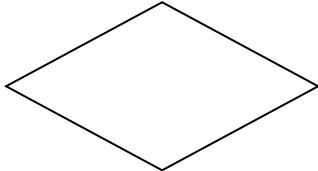
合同であれば○	()
対角線の本数	() 本

②平行四辺形



合同であれば○	()
対角線の本数	() 本

④ひし形



合同であれば○	()
対角線の本数	() 本