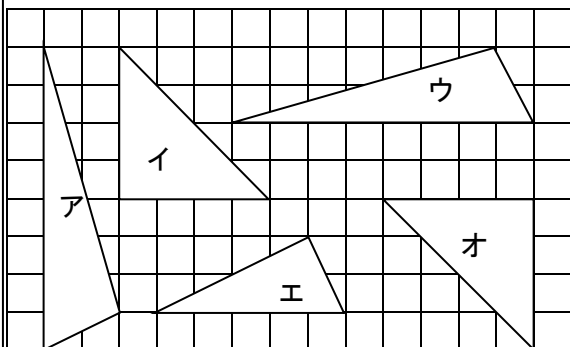


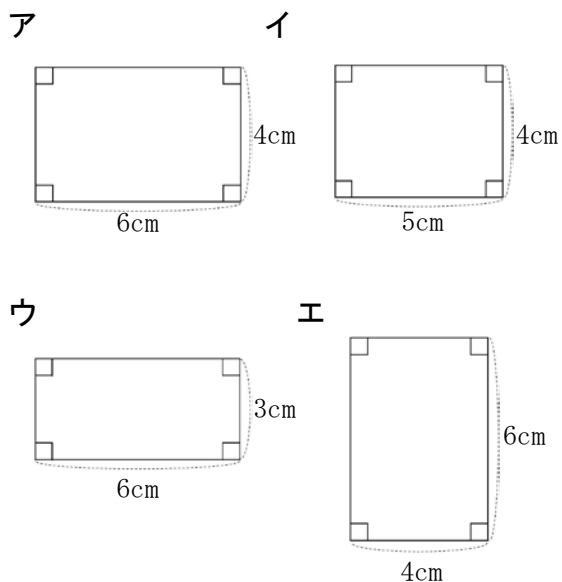
5年 15 (1)	図形の合同	年 組 名前
--------------------------------------	--------------	-----------

1 次の三角形の中で、合同なものは、どれとどれですか。



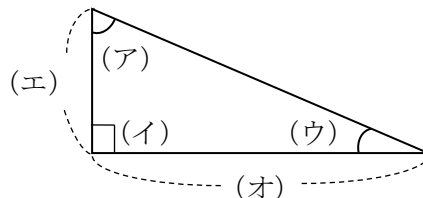
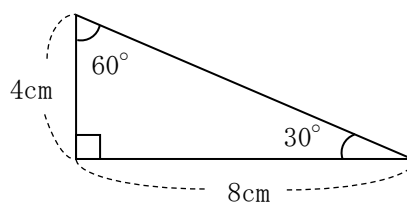
答え () と ()
() と ()

2 次の長方形の中で、合同なものは、どれとどれですか。



答え () と ()

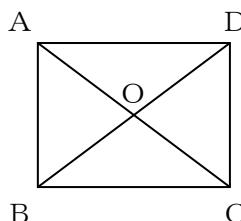
3 次の2つの図形は合同です。当てはまる長さや角度を書きましょう。



答え
 (ア) () 度
 (イ) () 度
 (ウ) () 度
 (エ) () cm
 (オ) () cm

4 下の図は、長方形に2本の対角線をひいたものです。図の中から、次の三角形と合同な三角形を見つけましょう。

答え
 三角形ADOと
 ()



三角形AOBと
 ()