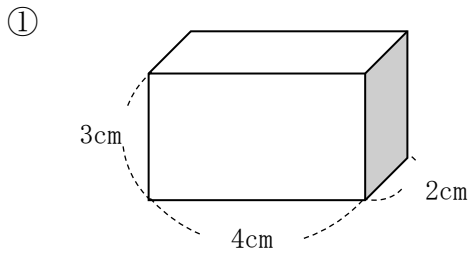


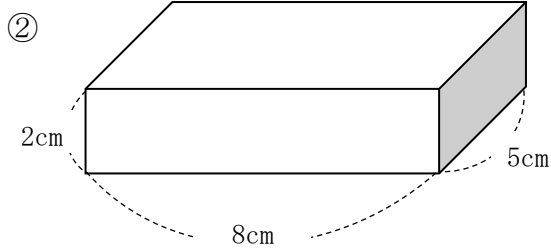
<b>5年</b> <b>12</b> <b>(2)</b>	直方体や立方体の体積 体積の単位と測定	____年 ____組
		名前

① 次の直方体の体積を求めましょ  
う。



式

答え



式

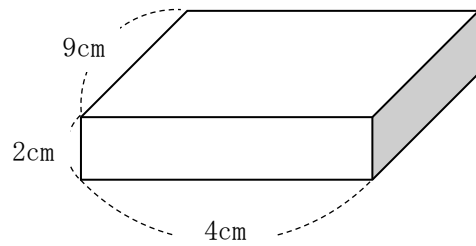
答え

② 次の問題に答えましょ。

**問題**

体積が  $36\text{cm}^3$  になる図形はどれか、  
記号で答えましょ。

ア



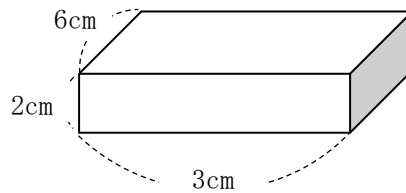
イ

一辺が 3cm の立方体

ウ

たての長さが高さが 3cm、横の長さ  
が 4cm の直方体

エ



答え