

取り組んだ日 月 日

5年
11
(4)

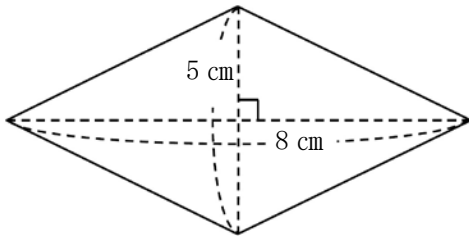
三角形・平行四辺形・
ひし形・台形の面積

___年 ___組

名前

1 次のひし形の面積を求めましょう。

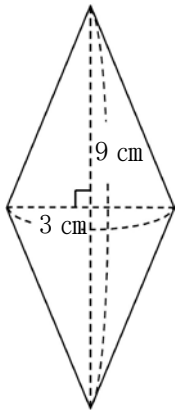
①



式

答え

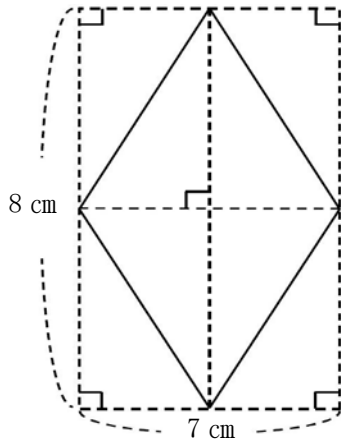
②



式

答え

③



式

答え