

取り組んだ日 月 日

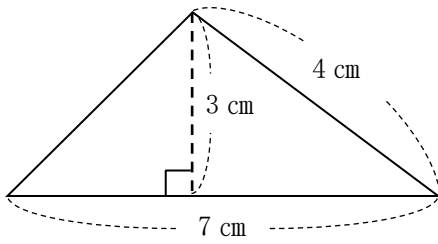
5年  
11  
(2)

三角形・平行四辺形・  
ひし形・台形の面積

\_\_\_年 \_\_\_組  
名前

1 次の三角形の面積を求めましょう。

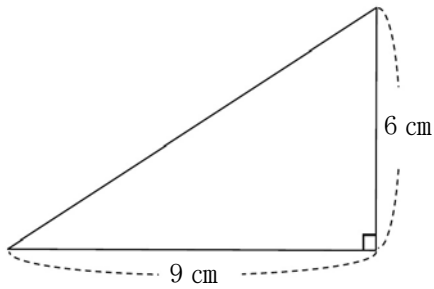
①



式

答え

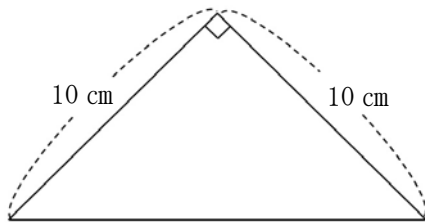
②



式

答え

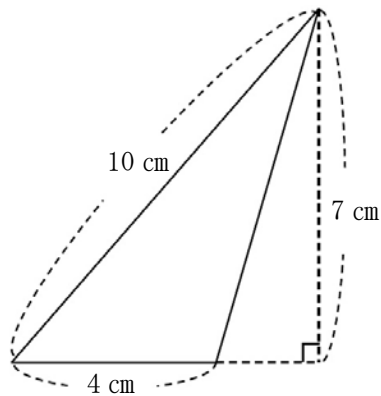
③



式

答え

④



式

答え