

3年

7

(1)

小数のたし算

___年 ___組

名前

① 次の□に当てはまる数をかきましょう。

0.3+0.5の計算のしかたを考えましょう。

①0.3は0.1が□こ、0.5は

0.1が□こです。

②合わせると、0.1が(3+5)こなので、

□になります。

② 計算をしましょう。

① $0.2+0.4$

② $0.5+0.2$

③ $1.5+0.4$

④ $2.1+0.6$

⑤ $3+0.7$

⑥ $0.4+3$

⑦ $0.4+0.6$

⑧ $0.7+0.3$

⑨ $0.6+0.8$

⑩ $0.9+0.7$

③ ポットに水が1.3L入っています。

①0.6Lの水を入れると、全部で何Lになりますか。

式

答え

②1.2Lの水を入れると、全部で何Lになりますか。

式

答え

④ 牛にゆうを朝0.7L、夜0.6Lのみました。合わせて何Lのみましたか。

式

答え

⑤ 0.3mのロープがあります。1.5mのロープとつなぎました。合わせて何mになりましたか。

式

答え

3年 <div style="border: 1px solid black; padding: 2px; display: inline-block; width: 20px; height: 20px; text-align: center; line-height: 20px;">7</div> (2)	<h2 style="margin: 0;">小数のたし算</h2>	<p style="text-align: center;">__年 __組</p> <p>名前 _____</p>
---	------------------------------------	--

- 1 次の文章は小数のたし算のひっ算をせつ明しています。□に当てはまる言葉をかきましよう。
- ① をそろえてかく。
- ② のたし算と同じように計算する。
- ③ 上の小数点にそろえて、答えの をうつ。
- ④ 次のひっ算をしましょう。

	2	6
+	1	3

- 2 ひっ算をしましょう。
- ①
- | | | |
|---|---|---|
| | 5 | 4 |
| + | 0 | 8 |
| | | |
- ②
- | | | |
|---|---|---|
| | 5 | 2 |
| + | 4 | 3 |
| | | |
- ③
- | | | |
|---|---|---|
| | 7 | 6 |
| + | 1 | 8 |
| | | |
- ④
- | | | |
|---|---|---|
| | 0 | 3 |
| + | 6 | |
| | | |

- 3 赤いテープが2m60cm、青いテープが1m50cmあります。
- ① 赤いテープの長さは何mですか。
- ② 青いテープの長さは何mですか。
- ③ 赤いテープと青いテープを合わせると、何mになりますか。

式

答え

- 4 3.6Lの水と2.8Lの水を合わせました。全部で何Lですか。

式

答え

3年

7

(3)

小数のたし算

__年 __組

名前

1 □に当てはまる数をかきましょう。

① 3 d L と 4 L を合わせた数は L② 0.4 m と 1.2 m を合わせた数は m③ 0.7 m と 1.9 m を合わせた数は m④ 2.5 kg と 1.8 kg を合わせた数は kg⑤ 2.3 より 0.7 大きい数は ⑥ 4.5 より 1.6 大きい数は

2 計算をしましょう。

① $1.1 + 0.7$

② $4.2 + 1.6$

③ $3.3 + 2.4$

④ $0.8 + 0.3$

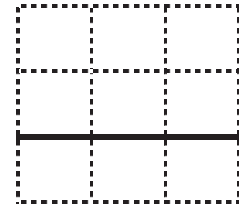
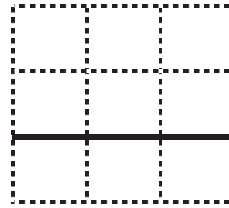
⑤ $1.7 + 2.5$

⑥ $2.7 + 2.8$

3 ひっ算で計算をしましょう。

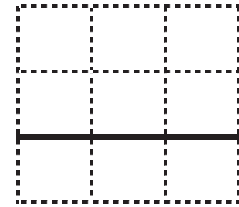
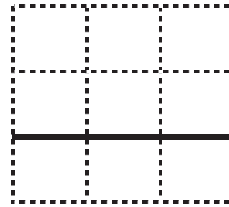
① $3.5 + 2.9$

② $6.4 + 1.7$



② $4.6 + 2.8$

④ $1.7 + 5.3$



4 公園へ行くのに、1.6 km 歩きました。
そこから図書館までさらに 1.9 km 歩きました。
合わせて何 km 歩きましたか。

式

答え

5 2.4 L と 3.8 L のオレンジジュースを合わせると、全部で何 L になりますか。

式

答え

3年 7 (4)	小数のたし算	__年 __組 名前
-------------------------------------	---------------	---------------

<p>1 5.6mのリボンと 2.3mのリボンをつなぐと、何mになりますか。</p> <p>式</p> <p style="text-align: center;">答え</p> <p>2 まいさんは、2.7kgのすいかと 2.5kgのすいかを持っています。まいさんが持っているすいかの重さは、合わせて何kgになりますか。</p> <p>式</p> <p style="text-align: center;">答え</p> <p>3 ひろしさんは、かじゅう 0.7d Lに 2.3d Lの水を入れて、すべて飲みました。ひろしさんは、何d L飲みましたか。</p> <p>式</p> <p style="text-align: center;">答え</p>	<p>4 水が大きいポットに 3.9L、小さいポットに 1.6L入っています。合わせて何Lありますか。</p> <p>式</p> <p style="text-align: center;">答え</p> <p>5 0.1の25倍の数と、2と0.8を合わせた数があります。</p> <p>①どちらの数が大きいですか。</p> <p>②2つの数を合わせると、いくつですか。</p> <p>式</p> <p style="text-align: center;">答え</p>
--	--

3年 7 (5)	小数のたし算	____年 ____組 名前
-------------------------------------	--------	-------------------

- ① 計算をしましょう。
- ① $0.2 + 0.5$
 - ② $0.7 + 0.1$
 - ③ $0.6 + 0.3$
 - ④ $1 + 0.8$
 - ⑤ $1.2 + 0.5$
 - ⑥ $0.3 + 1.4$
 - ⑦ $1.2 + 2.6$
 - ⑧ $3.1 + 2.8$
 - ⑨ $1.6 + 2.3$
 - ⑩ $2.5 + 2.2$

- ② ひっ算で計算をしましょう。
- ①

	5	2
+	3	4
 - ②

	5	4
+	0	8
 - ③

	2	9
+	5	5
 - ④

	3	7
+	2	3
 - ⑤

	3	3
+	4	8
 - ⑥

	4	2
+	1	9
 - ⑦

	1	5
+	0	6
 - ⑧

	7	6
+	1	4
 - ⑨

	4	7
+	2	5
 - ⑩

	3	6
+	3	6