


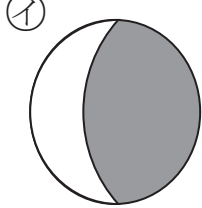
2年 2 (1)	分数	年 組 名前
-------------------------------------	-----------	-----------

① $\frac{1}{2}$ の大きさをえらびましょう。


ア



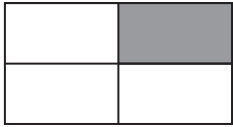
イ



ウ




エ

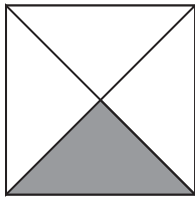


()


② 色をぬったところは、もとの大きさの何分の一ですか。



()



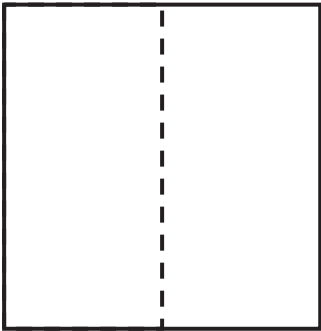
()



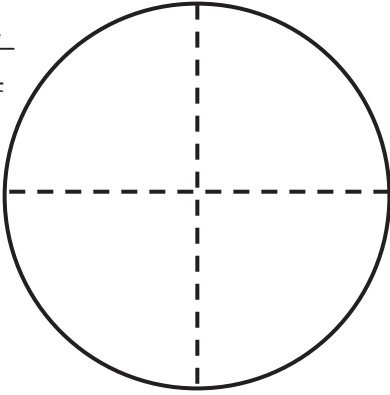
()

③ つぎの大きさに色をぬりましょう。

$\frac{1}{2}$

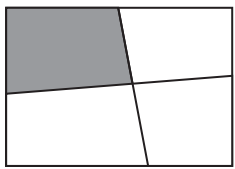
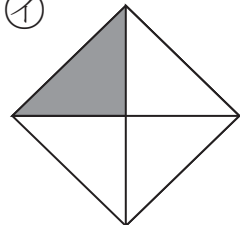
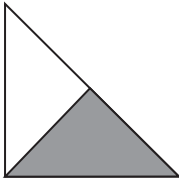
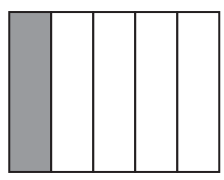


$\frac{1}{4}$

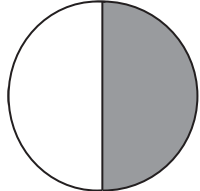

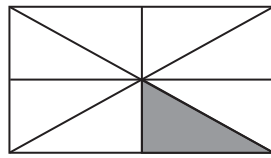


2年 2 (2)	分数	年 組 名前
-------------------------------------	-----------	-----------

① $\frac{1}{4}$ の大きさをえらびましょう。

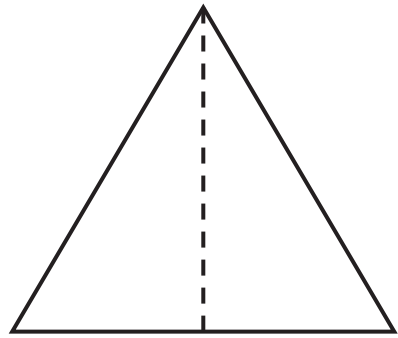
ア 	イ 
ウ 	エ 
	()

② 色をぬったところは、もとの大きさの何分の一ですか。

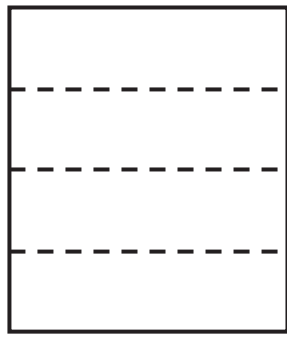
	
()	()
	
()	

③ つぎの大きさに色をぬりましょう。

$\frac{1}{2}$

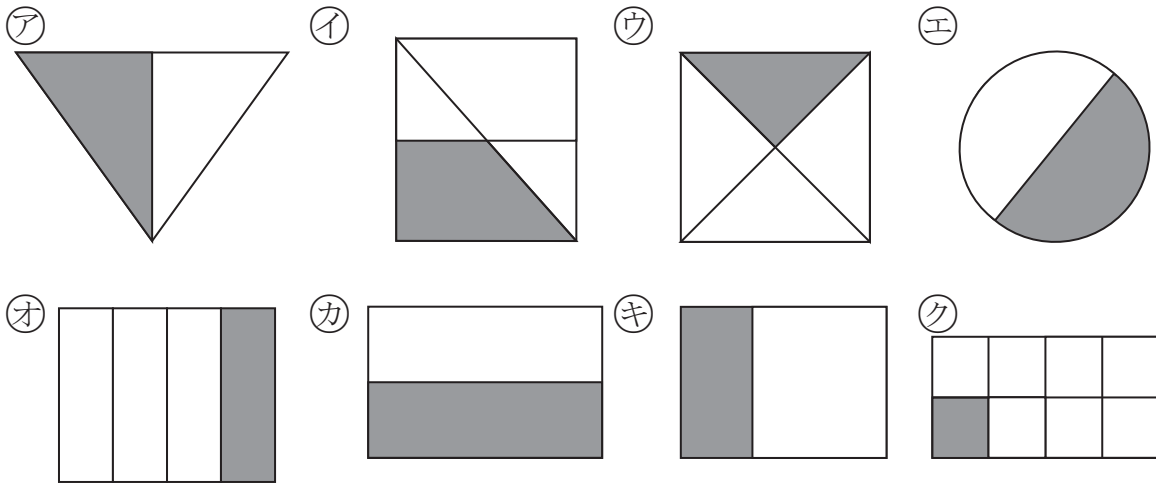


$\frac{1}{4}$



2年 2 (3)	分数	年 組 名前
-------------------------------------	----	-----------


① $\frac{1}{2}$ 、 $\frac{1}{4}$ 、 $\frac{1}{8}$ の大きさをぜんぶえらびましょう。



$\frac{1}{2}$ () $\frac{1}{4}$ () $\frac{1}{8}$ ()

② つぎの大きさに色をぬりましょう。

$\frac{1}{2}$



$\frac{1}{4}$

