



1年 7 (1)	とけい	___ねん ___くみ なまえ
----------------	-----	--------------------

1 なんじですか。


①



②




③



2 なんじはんですか。


①



②



③






1年 <b>7</b> (2)	とけい	____ねん ____くみ なまえ
-----------------------	-----	----------------------

1 みじかい はりを かきましょう。

① 10じ






② 3じ

③ 5じ



2 <sup>した</sup>下の えは さとしさんの <sup>いちにち</sup>一日です。えの ようすと とけい  
 があう ものを \_\_\_\_\_ で むすびましょう。

あさ → ひる → よる




1年  
7  
(3)

とけい

\_\_\_ねん \_\_\_くみ  
なまえ

1 なんじ なんぷんですか。

①



②




③



2 なんじ なんぷんですか。

①



②



③




1年  
7  
(4)

とけい


\_\_\_ねん \_\_\_くみ  
名前

1 なんじ なんぷんですか。


①



②




③




2 なんじ なんぷんですか。

①



②



③





1年 7 (5)	とけい	___ねん ___くみ なまえ
----------------	-----	--------------------

1 ながい はりを かきましょう。

① 3じ50ぶん

② 7じ15ぶん



2 ながい はりを かきましょう。

① 1じ38ぶん

② 10じ24ぶん

