



①6月1日から6月3日までのかだい

3日間のうち、学校にいかない2日間にとりくみましよう。
やりおえたら、おうちの人にもるつけをしてもらいましよう。

1日分・・・こくご2まい、さんすう2まい

ていしゅつ日

- A グループ 6月4日(木)
- B グループ 6月5日(金)
- C グループ 6月3日(水)

*【B・Cグループの方へ】

ホームページから印刷して取り組んだ場合は、そちらを提出してください。重複して取り組まなくても大丈夫です。

2年 くみ 名前

①

取り組んだ日 月 日

| | | |
|----------------|-------|----------------|
| 1年 ① (1) | 大きいかず | —ねん —くみ なまえ |
|----------------|-------|----------------|

□にあてはまる かずをかきましょう。

- ① 10と 2で
- ② 10と 7で
- ③ 10と 5で
- ④ 13は 10と
- ⑤ 16は 10と
- ⑥ 20は と 10
- ⑦ 11 - - 13 - 14 - 15
- ⑧ 10 - 12 - - 16 - 18
- ⑨ 20 - 18 - - 14 -

いくつあるでしょうか。



| |
|---------|
| ほん 本 |
|---------|

○かずを まちがいなくかぞえるために どうなくふうをしますか。

取り組んだ日 月 日

| | | |
|----------------|-------|----------------|
| 1年 ① (2) | 大きいかず | —ねん —くみ なまえ |
|----------------|-------|----------------|

□にあてはまる かずをかきましょう。

- ① 10と 9で
- ② 10と 3で
- ③ 10と 10で
- ④ と 9で 19
- ⑤ と 1で 11
- ⑥ と 10で 20

② 大きいほうに まるをつけましょう。

- ① 17 19 ② 14 15
- ③ 18 11 ④ 19 20

□にかずをかきましょう。

- ① 5 - - - 20
- ② 10 - 12 - - 16 -

取り組んだ日 月 日

| | | |
|----------------|-------|----------------|
| 1年 ① (3) | 大きいかず | —ねん —くみ なまえ |
|----------------|-------|----------------|

□にあてはまる かずをかきましょう。

- ① 10が 9こと 1が 9こで
- ② 10が 10こで
- ③ 60は 10が こ
- ④ 99は 10が こ
と 1が こ
- ⑤ 100は 10が こ
- ⑥ 72の
一のくらいのすうじは で
十のくらいのすうじは です。
- ⑦ 50の
一のくらいのすうじは で
十のくらいのすうじは です。

取り組んだ日 月 日

| | | |
|----------------|-------|----------------|
| 1年 ① (4) | 大きいかず | —ねん —くみ なまえ |
|----------------|-------|----------------|

① 大きいほうに まるをつけましょう。

- ① 56 42 ② 89 69
- ③ 98 89 ④ 100 99

② □にあてはまる かずをかきましょう。

- ① 96 - - 98 - -
- ② 98 - - - 104
- ③ - 105 - - 95
- ④ - 100 - 98 -

かずの せんをみて こたえましょう。



- ① 100より3大きいかずは です。
- ② 75は80より 小さいかずです。

②


取り組んだ日 月 日

| | | |
|----------------|-------|--------------------|
| 1年 ① (5) | 大きいかず | ___ねん ___くみ なまえ |
|----------------|-------|--------------------|

□にあてはまる かずをかきましょう。

| | | | | | | | | | |
|----|----|----|----|----|----|----|----|----|----|
| 0 | 1 | 2 | 3 | 4 | 5 | 6 | 7 | 8 | 9 |
| 10 | 11 | 12 | 13 | 14 | 15 | 16 | 17 | 18 | 19 |
| 20 | 21 | 22 | 23 | 24 | 25 | 26 | 27 | 28 | 29 |
| 30 | 31 | | | | 35 | | | | 39 |
| 40 | 41 | | | | | | 47 | | |
| | | | | | 55 | | | | 59 |
| 60 | | | | | 65 | | | | |
| | | | 73 | | | | | 78 | |
| | | | | | | | | | 89 |
| 90 | | | | | 95 | | 97 | | |

かずの せんを 見て こたえましょう。



- ① 100より8がさいかずは です。
 ② 82は90より 小さいかずです。

取り組んだ日 月 日

| | | |
|----------------|------|--------------------|
| 1年 ② (1) | たしざん | ___ねん ___くみ なまえ |
|----------------|------|--------------------|

②

たしざんを しましょう。

- ① $2+1$
 ② $3+2$
 ③ $1+7$
 ④ $4+2$
 ⑤ $6+3$

たしざんを しましょう。

- ⑥ $1+9$
 ⑦ $5+5$
 ⑧ $8+2$
 ⑨ $6+4$
 ⑩ $3+7$

○+□=10の れんしゅう

- ① $1+9$ ② $2+8$ ③ $3+7$ ④ $4+6$
 ⑤ $5+5$ ⑥ $6+4$ ⑦ $7+3$ ⑧ $8+2$
 ⑨ $9+1$ ⑩ $10+0$ ⑪ $0+10$

取り組んだ日 月 日

| | | |
|----------------|------|--------------------|
| 1年 ② (2) | たしざん | ___ねん ___くみ なまえ |
|----------------|------|--------------------|

たしざんを しましょう。

- ① $7+7$
 ② $8+5$
 ③ $9+4$
 ④ $6+8$
 ⑤ $5+6$

たしざんを しましょう。

- ⑥ $3+9$
 ⑦ $7+6$
 ⑧ $8+7$
 ⑨ $9+2$
 ⑩ $4+8$

取り組んだ日 月 日

| | | |
|----------------|------|--------------------|
| 1年 ② (3) | たしざん | ___ねん ___くみ なまえ |
|----------------|------|--------------------|

おなじ こたえに なる しきを せんで むすびましょ

- $6+6$ $8+4$
 $9+6$ $9+7$
 $8+8$ $6+8$
 $7+7$ $8+7$
 $9+4$ $7+6$

しきとこたえをかきましょう

・きのうは どんぐりを 8こ 取りました。きょうは、5こ 取りました。あわせて なんこ 取りましたか。

しき

こたえ

・こうえんで 男のこが 4人 あそんでいました。そこに、女のこが 7人 きました。ぜんぶで なん人に なりましたか。

しき

こたえ

くり上がりのれんしゅう (1)

- ① $2+9$ ② $3+8$ ③ $3+9$ ④ $4+7$ ⑤ $4+8$ ⑥ $4+9$
 ⑦ $5+6$ ⑧ $5+7$ ⑨ $5+8$ ⑩ $5+9$ ⑪ $6+5$ ⑫ $6+6$
 ⑬ $6+7$ ⑭ $6+8$ ⑮ $6+9$ ⑯ $7+4$ ⑰ $7+5$ ⑱ $7+6$

くり上がりのれんしゅう (2)

- ① $7+7$ ② $7+8$ ③ $7+9$ ④ $8+3$ ⑤ $8+4$ ⑥ $8+5$
 ⑦ $8+6$ ⑧ $8+7$ ⑨ $8+8$ ⑩ $8+9$ ⑪ $9+2$ ⑫ $9+3$
 ⑬ $9+4$ ⑭ $9+5$ ⑮ $9+6$ ⑯ $9+7$ ⑰ $9+8$ ⑱ $9+9$

③

あわせていくつ

たしざん (1)

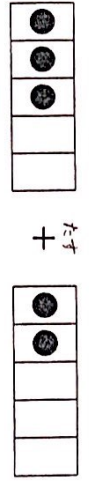
月: 8 日: 8

うかん: 8 さん: 8

できたかず

たしざんを しきて かき、けいざんを しましよう。
 (2)の④・⑥は、**たしざん(たしざん)**で チェックしましょう。

① あわせると なんにんになるでしょう。



しき $3+2=$

(3 たす 2 は 5)

こたえ にん

② こたえが 10までの たしざんを しましよう。

- ① 1+1 ② 4+2

- ③ 2+3 ④ 5+1

- ⑤ 3+3 ⑥ 2+5

- ⑦ 4+1 ⑧ 3+5

② $5+1=6$

4...5-1とした。
7...数えたしまちがい
←6・7

⑥ $2+5=7$

6...数えたしまちがい
3...2と5の差をかけた。
←6・7

④

あわせていくつ

たしざん (1)

月: 12 日: 17

うかん: 12 さん: 17

できたかず

こたえが 10までの たしざんを しましよう。

◆ つぎの たしざんを しましよう。

- ① 2+1 ② 2+3

- ③ 7+2 ④ 2+4

- ⑤ 1+4 ⑥ 1+6

- ⑦ 3+1 ⑧ 5+5

- ⑨ 4+5 ⑩ 6+3

- ⑪ 9+1 ⑫ 5+1

- ⑬ 5+3 ⑭ 2+2

- ⑮ 3+3 ⑯ 5+2

- ⑰ 6+4 ⑱ 4+3

- ⑲ 3+6 ⑳ 1+8

4

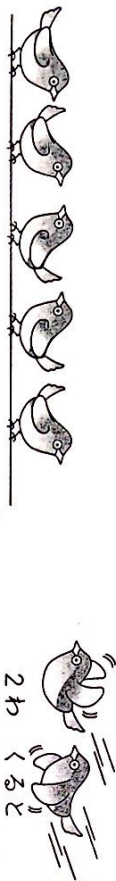
たしざん (1)

ふえると いくつ

| | | | |
|---|---|-------|-------|
| 月 | 日 | じかん | てきだかす |
| | | 8 ぶん | |
| | | こかく95 | |
| | | 8 | |

たしざんを しきて かき、けいざんを しましよ。 (2)の②・③は、**たまごのたしざん**で **チェック**しましよ。

① ふえると **いくつ**に なりますか。しきに かきましよ。



しき $5+2=$

こたえ わ

(5 たす 2 は 7)

② つぎの たしざんを しましよ。

- ① 3+5 ② 6+2
- ③ 7+3 ④ 4+6
- ⑤ 6+3 ⑥ 5+5
- ⑦ 9+1 ⑧ 8+2

たまごのたしざん・こんなまちがいはいませんか？

② $6+2=8$

← **まちがひ**
 {4...ひき算をした。
 7, 9...ぬえたしまちがひ
 ← $6 \cdot 7 \cdot 8$

③ $7+3=10$

← **まちがひ**
 {4...ひき算をした。
 9...ぬえたしまちがひ
 ← $6 \cdot 7 \cdot 8$

計算・① - 17

5

たしざん (1)

ふえると いくつ

| | | | |
|---|---|-------|-------|
| 月 | 日 | じかん | てきだかす |
| | | 12 ぶん | |
| | | こかく95 | |
| | | 17 | |

こたえが 10までの たしざんを しましよ。

◆ つぎの たしざんを しましよ。

① 7+3 ② 1+1

- ③ 3+5 ④ 6+2
- ⑤ 1+3 ⑥ 4+1
- ⑦ 2+5 ⑧ 3+4
- ⑨ 6+1 ⑩ 4+4
- ⑪ 7+1 ⑫ 1+5
- ⑬ 8+2 ⑭ 2+6
- ⑮ 4+6 ⑯ 4+2
- ⑰ 5+4 ⑱ 3+7
- ⑲ 2+7 ⑳ 1+2

計算・①

5

たしざん (1)

たしざん

| | | | |
|---|---|--------|-------|
| 月 | 日 | じかん | てきたかず |
| | | 12 じかん | |
| | | ごみくすり | 17 |

たしざんが 10までの たしざんを しましよう。(4)・(10)は、つまきまのてんを チェック しましよう。

◆ つぎの たしざんを しましよう。

- ① 1+3 ② 2+1
- ③ 4+4 ④ 6+3
- ⑤ 9+1 ⑥ 7+1
- ⑦ 5+5 ⑧ 2+7
- ⑨ 8+2 ⑩ 4+6
- ⑪ 3+7 ⑫ 2+5
- ⑬ 5+4 ⑭ 8+1
- ⑮ 4+3 ⑯ 3+6
- ⑰ 1+9 ⑱ 7+2
- ⑲ 6+4 ⑳ 2+8

● つまきまのてん ● こんなまちがいを していませんか？

④ 6+3=9

10... 数えたしまちがい
3... 6-3とした
c6・7・8・9

⑪ 3+7=10

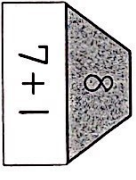
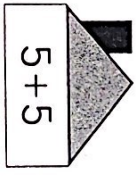
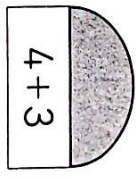

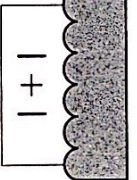
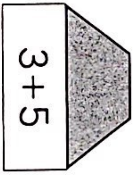
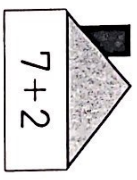

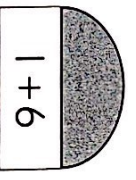
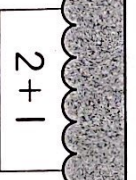
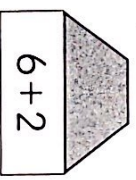


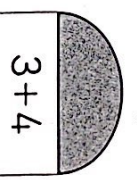

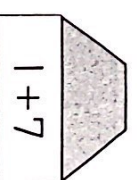
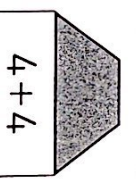



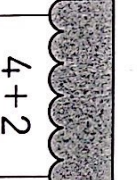
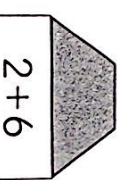

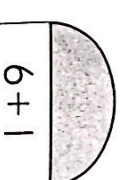
9... 数えたしまちがい
11... 1たしすぎ
4... 3と7の差をかいだ。
c6・7・8・9

たしざん (1)

たしざん

| | | | |
|---|---|--------|-------|
| 月 | 日 | じかん | てきたかず |
| | | 12 じかん | |
| | | ごみくすり | 21 |

◆ たしざんの こたえを やねに かきましよう。

| | | | |
|---|---|---|---|
|  |  |  |  |
| 7+1 | 5+5 | 4+3 | 2+1 |
|  |  |  |  |
| 1+1 | 3+5 | 7+2 | 2+5 |
|  |  |  |  |
| 1+6 | 2+1 | 6+2 | 1+9 |
|  |  |  |  |
| 5+4 | 3+4 | 3+1 | 1+7 |
|  |  |  |  |
| 4+4 | 3+7 | 5+2 | 2+3 |
|  |  |  |  |
| 4+2 | 2+6 | 6+3 | 6+1 |

6

たしざん (1)
たしざんかあど

月 10日
日 5月 14日

ウかん 10ぶん
ごかく 35

てきにがす

かあどて たしざんを しましよ。

① かあどの こたえは いくつしよ。

- ① $1+6$ () ② $3+5$ ()
- ③ $2+7$ () ④ $9+1$ ()
- ⑤ $4+4$ () ⑥ $5+2$ ()
- ⑦ $8+2$ () ⑧ $6+1$ ()
- ⑨ $3+3$ () ⑩ $2+6$ ()
- ⑪ $1+8$ () ⑫ $4+5$ ()

② こたえが おなじに なる かあどを つなぎましよう。

- ① $2+7$ $4+4$
- ② $7+1$ $2+5$
- ③ $1+9$ $8+1$
- ④ $4+3$ $7+3$

たしざん (1)
たしざんかあど

月 10日
日 5月 17日

ウかん 10ぶん
ごかく 35

てきにがす

たしざんが ただし く けいざん できるように しましよ。

◆ かあどの こたえを, かあどの うらに かきましよう。

- ① $1+2$ 3 ② $2+3$
- ③ $4+2$ ④ $3+5$
- ⑤ $2+8$ ⑥ $1+9$
- ⑦ $6+3$ ⑧ $7+1$
- ⑨ $4+4$ ⑩ $3+3$
- ⑪ $1+7$ ⑫ $8+1$
- ⑬ $5+4$ ⑭ $3+7$
- ⑮ $2+6$ ⑯ $1+4$
- ⑰ $4+6$ ⑱ $2+7$
- ⑲ $2+5$ ⑳ $3+6$

⑦

ひきざん (1)

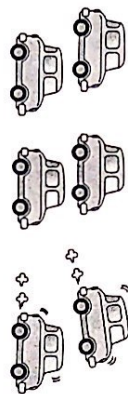
のこりは いくつ

| | | | |
|---|---|------|-------|
| 月 | 日 | じかん | てきたかず |
| 8 | 8 | 8 ぶん | 8 |

ひきざんを しきて かき、けいざんを しましよう。

(2)の③・⑥は、**ひきざんをひき取って** チェックしました。

① のこりは いくつに なりますか。しきに かきましよう。



6だい ありました。

2だい はしって
いきました。

しき $6-2=$

(6 ひく 2 は 4)

こたえ _____ だい

② つぎの ひきざんを しましよう。

① 5-2 ② 6-4

③ 7-3 ④ 2-1

⑤ 9-1 ⑥ 8-7

⑦ 3-1 ⑧ 7-5

ひきざん (1)

のこりは いくつ

| | | | |
|----|----|------|-------|
| 月 | 日 | じかん | てきたかず |
| 12 | 17 | 8 ぶん | 17 |

◆ つぎの ひきざんを しましよう。

① 4-1 ② 3-2

③ 8-7 ④ 5-3

⑤ 6-5 ⑥ 7-6

⑦ 9-8 ⑧ 4-3

⑨ 5-1 ⑩ 6-3

⑪ 7-1 ⑫ 7-4

⑬ 8-5 ⑭ 9-3

⑮ 9-6 ⑯ 6-2

⑰ 8-4 ⑱ 5-4

⑲ 4-2 ⑳ 9-7

ひきざんをひき取って、こたえをまちがいでいませんか？

② ③ $7-3=4$

3... 数えひきまちがいで
10... たし算をした。

こたえ

⑥ $8-7=1$

2... 数えひきまちがいで
15... たし算をした。

こたえ

8

ちがいは (1)

ちがいは いくつ

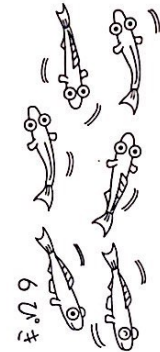

月 10日
日 10

うかん : てきたかず
10
ちかくすう : 10

ひきざんを しきて かき、けいざんを しましよ。

(2)の③・⑦は、ひきざんを て チェックしましよ。

1 きんぎおは、めだかよりも なんびき おおいてしましよ。



しき $8-6=$

こたえ _____ ひき

(8 ひき 6 は 2)

2 つぎの ひきざんを しましよ。

① $10-5$ ② $8-2$

③ $9-2$ ④ $10-1$


⑤ $7-6$ ⑥ $10-8$

⑦ $10-3$ ⑧ $7-4$


⑨ $10-9$ ⑩ $9-5$

ひきざんを しましよ。このなまちがいしていませんか?

2 ③ $9-2=7$



⑦ $10-3=7$



計算・① - 25

ちがいは (1)

ちがいは いくつ

月 12日
日 17

うかん : てきたかず
12
ちかくすう : 17

◆ つぎの ひきざんを しましよ。

① $10-2$ ② $9-3$

③ $8-1$ ④ $7-2$

⑤ $9-4$ ⑥ $10-4$

⑦ $6-2$ ⑧ $10-7$

⑨ $9-1$ ⑩ $8-3$

⑪ $7-3$ ⑫ $5-1$

⑬ $4-1$ ⑭ $10-6$

⑮ $9-6$ ⑯ $8-5$

⑰ $6-4$ ⑱ $9-7$

⑲ $7-5$ ⑳ $8-4$

26 - 計算・①