



# ① 6月1日から6月3日までの

## かだいのこたえ

- 丸付けと間違えた箇所直しをお願いします。
- 平日、登校しない日に取り組む課題です。
- 内容は1年生の学習の復習となっています。
- ①の課題（6/1～3）をホームページから印刷して取り組んだ場合は、そちらを提出してください。
- 提出日は課題の表紙に書いてあります。

①

取り組んだ日 月 日

1年 ① (1)	大きいかず	___ねん ___くみ なまえ
----------------	-------	--------------------

□にあてはまる かずを かきましよう。

- ① 10と 2で
- ② 10と 7で
- ③ 10と 5で
- ④ 13は 10と
- ⑤ 16は 10と
- ⑥ 20は  と 10
- ⑦ 11 -  - 13 - 14 - 15
- ⑧ 10 - 12 -  - 16 - 18
- ⑨ 20 - 18 -  - 14 -

いくつあるでしょうか。



13本

○かずを まちがいなくかぞえるために どんなくふうをしますか。

10の かたまりをつかって かぞえます。

取り組んだ日 月 日

1年 ① (2)	大きいかず	___ねん ___くみ なまえ
----------------	-------	--------------------

□にあてはまる かずを かきましよう。

- ① 10と 9で
- ② 10と 3で
- ③ 10と10で
- ④  と 9で19
- ⑤  と 1で11
- ⑥  と10で20

② 大きいほうに まるをつけましよう。

- ①   ②
- ③   ④

□にかずを かきましよう。

- ① 5 -  -  - 20
- ② 10 - 12 -  - 16 -

取り組んだ日 月 日

1年 ① (3)	大きいかず	___ねん ___くみ なまえ
----------------	-------	--------------------

□にあてはまる かずを かきましよう。

- ① 10が 9こと 1が 9こで
- ② 10が 10こで
- ③ 60は 10が  こ
- ④ 99は 10が  こ  
と1が  こ
- ⑤ 100は 10が  こ
- ⑥ 72の  
一のくらのすうじは  で  
十のくらのすうじは  です。
- ⑦ 50の  
一のくらのすうじは  で  
十のくらのすうじは  です。

取り組んだ日 月 日

1年 ① (4)	大きいかず	___ねん ___くみ なまえ
----------------	-------	--------------------

① 大きいほうに まるをつけましよう。

- ①   ②
- ③   ④

② □にあてはまる かずを かきましよう。

- ① 96 -  - 98 - 99 -
- ② 98 -  -  - 104
- ③  - 105 -  - 95
- ④  - 100 - 98 -

かずの せんを みて こたえましよう。



- ① 100より3大きいかずは  です。
- ② 75は80より  小さいかずです。

②


取り組んだ日 月 日

1年 ① (5)	大きいかず	—ねん —くみ なまえ
----------------	-------	----------------

□にあてはまる かずを かきましょう。

0	1	2	3	4	5	6	7	8	9
10	11	12	13	14	15	16	17	18	19
20	21	22	23	24	25	26	27	28	29
30	31	32	33	34	35	36	37	38	39
40	41	42	43	44	45	46	47	48	49
50	51	52	53	54	55	56	57	58	59
60	61	62	63	64	65	66	67	68	69
70	71	72	73	74	75	76	77	78	79
80	81	82	83	84	85	86	87	88	89
90	91	92	93	94	95	96	97	98	99
100									

かずの せんを 見て こたえましょう。



① 100より 8がさいかずは  です。

② 82は 90より  小さいかずです。

取り組んだ日 月 日

1年 ② (1)	たしざん	—ねん —くみ なまえ
----------------	------	----------------

②

たしざんを しましょう。

① 2 + 1 = 3

② 3 + 2 = 5

③ 1 + 7 = 8

④ 4 + 2 = 6

⑤ 6 + 3 = 9

たしざんを しましょう。

⑥ 1 + 9 = 10

⑦ 5 + 5 = 10

⑧ 8 + 2 = 10

⑨ 6 + 4 = 10

⑩ 3 + 7 = 10

○+□=10の れんしゅう

① 1+9=10 ② 2+8=10 ③ 3+7=10 ④ 4+6=10

⑤ 5+5=10 ⑥ 6+4=10 ⑦ 7+3=10 ⑧ 8+2=10

⑨ 9+1=10 ⑩ 10+0=10 ⑪ 0+10=10

取り組んだ日 月 日

1年 ② (2)	たしざん	—ねん —くみ なまえ
----------------	------	----------------

たしざんを しましょう。

① 7 + 7 = 14

② 8 + 5 = 13

③ 9 + 4 = 13

④ 6 + 8 = 14

⑤ 5 + 6 = 11

たしざんを しましょう。

⑥ 3 + 9 = 12

⑦ 7 + 6 = 13

⑧ 8 + 7 = 15

⑨ 9 + 2 = 11

⑩ 4 + 8 = 12

くり上りのれんしゅう (1)

① 2+9=11 ② 3+8=11 ③ 3+9=12 ④ 4+7=11 ⑤ 4+8=12 ⑥ 4+9=13

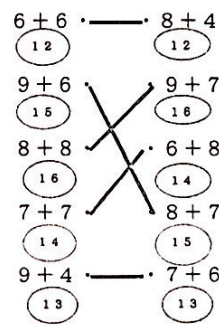
⑦ 5+6=11 ⑧ 5+7=12 ⑨ 5+8=13 ⑩ 5+9=14 ⑪ 6+5=11 ⑫ 6+6=12

⑬ 6+7=13 ⑭ 6+8=14 ⑮ 6+9=15 ⑯ 7+4=11 ⑰ 7+5=12 ⑱ 7+6=13

取り組んだ日 月 日

1年 ② (3)	たしざん	—ねん —くみ なまえ
----------------	------	----------------

おなじ こたえに なる しきを せんで むすびましょ



しきとこたえをかきましょう

・きのうは どんぐりを 8ことりました。きょうは、5ことりました。あわせて なんことりましたか。

しき 8 + 5 = 13

こたえ 13こ

・こうえんで 男のこが 4人 あそんでいました。そこに 女のこが 7人 きました。ぜんがで なん人になりましたか。

しき 4 + 7 = 11

こたえ 11人

くり上りのれんしゅう (2)

① 7+7=14 ② 7+8=15 ③ 7+9=16 ④ 8+3=11 ⑤ 8+4=12 ⑥ 8+5=13

⑦ 8+6=14 ⑧ 8+7=15 ⑨ 8+8=16 ⑩ 8+9=17 ⑪ 9+2=11 ⑫ 9+3=12

⑬ 9+4=13 ⑭ 9+5=14 ⑮ 9+6=15 ⑯ 9+7=16 ⑰ 9+8=17 ⑱ 9+9=18

③

あわせていくつ

たしざん (1)

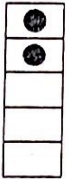
月 8 日  
日 8

うかん できたかず  
ちえんがくす

あわせていくつ

たしざんを して かき、ひいざんを しましょう。

(②の④・⑥は、つぎのうたを して)



しき  $3+2=5$

こたえ 5 にん

(3 たす 2 は 5)

- ② こたえが 10までの たしざんを しましょう。
- ①  $1+1=2$       ②  $4+2=6$
- ③  $2+3=5$       ④  $5+1=6$
- ⑤  $3+3=6$       ⑥  $2+5=7$
- ⑦  $4+1=5$       ⑧  $3+5=8$

つぎのうたを して、こたえが 正しいかどうかを 確かめよう。

②  $5+1=6$       ④  $2+5=7$

4...5-1とした。  
7...たえたしまちがい  
C6・7

6...たえたしまちがい  
3...2と5の差をかけた。  
C6・7

計算・① - 15

あわせていくつ

たしざん (1)

月 12 日  
日 17

うかん できたかず  
ちえんがくす

あわせていくつ

こたえが 10までの たしざんを しましょう。

◆ つぎの たしざんを しましょう。

- ①  $2+1=3$       ②  $2+3=5$
- ③  $7+2=9$       ④  $2+4=6$
- ⑤  $1+4=5$       ⑥  $1+6=7$
- ⑦  $3+1=4$       ⑧  $5+5=10$
- ⑨  $4+5=9$       ⑩  $6+3=9$
- ⑪  $9+1=10$       ⑫  $5+1=6$
- ⑬  $5+3=8$       ⑭  $2+2=4$
- ⑮  $3+3=6$       ⑯  $5+2=7$
- ⑰  $6+4=10$       ⑱  $4+3=7$
- ⑲  $3+6=9$       ⑳  $1+8=9$

16 - 計算・①

4

たしざん (1)

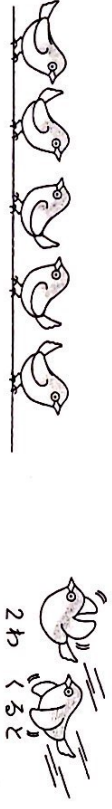
ふえると いくつ

月	日
8	8
5月	9日
日	8

たしざんを しきて かき、けいざんを しましよ。

(2)の②・③は、**たしざん**で **ちえつ**しよ。

1 ふえると いくつに なりますか。しきに かきましよ。



しき  $5+2=$  7      こたえ 7 わ

(5 たす 2 は か)

2 つぎの たしざんを しましよ。

- ①  $3+5=8$       ②  $6+2=8$
- ③  $7+3=10$     ④  $4+6=10$
- ⑤  $6+3=9$       ⑥  $5+5=10$
- ⑦  $9+1=10$     ⑧  $8+2=10$

2 たしざんを **しきた**、**けいざん**を **しましよ**か?      **こたえ**が

②  $6+2=8$        $4 \rightarrow 6$ ...**しきた**した。       $4 \rightarrow 8$ ...**けいざん**した。

③  $7+3=10$        $7 \rightarrow 9$ ...**しきた**した。       $9 \rightarrow 10$ ...**けいざん**した。

こたえが **しきた**      **けいざん**      **しきた**      **けいざん**

計算・① - 17

たしざん (1)

ふえると いくつ

月	日
12	17
5月	9日
日	17

こたえが 10までの たしざんを しましよ。

◆ つぎの たしざんを しましよ。

- ①  $7+3=10$       ②  $1+1=2$
- ③  $3+5=8$       ④  $6+2=8$
- ⑤  $1+3=4$       ⑥  $4+1=5$
- ⑦  $2+5=7$       ⑧  $3+4=7$
- ⑨  $6+1=7$       ⑩  $4+4=8$
- ⑪  $7+1=8$       ⑫  $1+5=6$
- ⑬  $8+2=10$     ⑭  $2+6=8$
- ⑮  $4+6=10$     ⑯  $4+2=6$
- ⑰  $5+4=9$       ⑱  $3+7=10$
- ⑲  $2+7=9$       ⑳  $1+2=3$

計算・①

5

たしざん (1)

たしざん

ウかん	てまだかす
月	12
日	21
ウかん	てまだかす
月	12
日	17

たしざん 10までの たしざんを しましよ。 (9・10は、**マサキ**でチエツクしよ。)

- ◆ つぎの たしざんを しましよ。
- ①  $1+3=4$                       ②  $2+1=3$
  - ③  $4+4=8$                       ④  $6+3=9$
  - ⑤  $9+1=10$                       ⑥  $7+1=8$
  - ⑦  $5+5=10$                       ⑧  $2+7=9$
  - ⑨  $8+2=10$                       ⑩  $4+6=10$
  - ⑪  $3+7=10$                       ⑫  $2+5=7$
  - ⑬  $5+4=9$                       ⑭  $8+1=9$
  - ⑮  $4+3=7$                       ⑯  $3+6=9$
  - ⑰  $1+9=10$                       ⑱  $7+2=9$
  - ⑲  $6+4=10$                       ⑳  $2+8=10$

● つぎの **マサキ** ● こんなまちがひしていませんか?

⑭  $6+3=9$                       ⑰  $3+7=10$

↑ **マサキ** ↑                      ↑ **マサキ** ↑

10...たえたしまちがい  
3...6-3とした  
6・7・8・9

9...たえたしまちがい  
11...1たしすぎ  
4...3と7の差をかいだ。  
6・7・8・9

計算・① - 19

たしざん (1)

たしざん

ウかん	てまだかす
月	12
日	21
ウかん	てまだかす
月	12
日	21

◆ たしざんの こたえを やねに かきましよ。


20 - 計算・① ☆ やねの かたちに きを つけよう。 7と 8になる やねの かたちは おなじだよ。

⑥

たしざん (1)

たしざんかあど

月 10 日 14

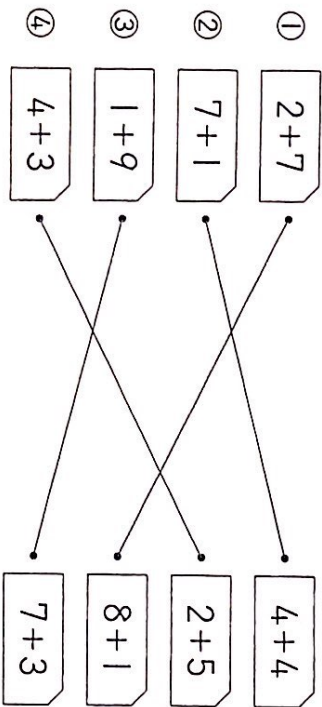
Udaku 10 日 14

かあどて たしざんを しましよ。

① かあどの こたえは いくつてしよ。

- |   |     |        |   |     |        |
|---|-----|--------|---|-----|--------|
| ① | 1+6 | ( 7 )  | ② | 3+5 | ( 8 )  |
| ③ | 2+7 | ( 9 )  | ④ | 9+1 | ( 10 ) |
| ⑤ | 4+4 | ( 8 )  | ⑥ | 5+2 | ( 7 )  |
| ⑦ | 8+2 | ( 10 ) | ⑧ | 6+1 | ( 7 )  |
| ⑨ | 3+3 | ( 6 )  | ⑩ | 2+6 | ( 8 )  |
| ⑪ | 1+8 | ( 9 )  | ⑫ | 4+5 | ( 9 )  |

② こたえが おなじに なる かあどを つなぎましよう。



計算・① - 21

たしざん (1)

たしざんかあど

月 10 日 17

Udaku 10 日 17

たしざんが ただし くけいさん できるように しましよ。

◆ かあどの こたえを, かあどの うらに かきましよう。

- |   |     |    |   |     |    |
|---|-----|----|---|-----|----|
| ① | 1+2 | 3  | ② | 2+3 | 5  |
| ③ | 4+2 | 6  | ④ | 3+5 | 8  |
| ⑤ | 2+8 | 10 | ⑥ | 1+9 | 10 |
| ⑦ | 6+3 | 9  | ⑧ | 7+1 | 8  |
| ⑨ | 4+4 | 8  | ⑩ | 3+3 | 6  |
| ⑪ | 1+7 | 8  | ⑫ | 8+1 | 9  |
| ⑬ | 5+4 | 9  | ⑭ | 3+7 | 10 |
| ⑮ | 2+6 | 8  | ⑯ | 1+4 | 5  |
| ⑰ | 4+6 | 10 | ⑱ | 2+7 | 9  |
| ⑲ | 2+5 | 7  | ⑳ | 3+6 | 9  |

22 - 計算・①

⑦

ひきざん (1)

のこりは いくら

月	日
8	8

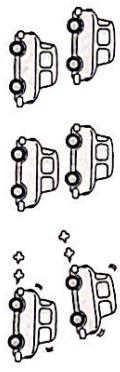
ひきざん (1)

のこりは いくら

月	日
8	8

ひきざんを して かき、けいさんを しましょう。 (2)の⑨・⑩は、**ひきざん**で チェックしましょう。

① のこりは いくつに なりますか。しきに かきましょう。



6だい ありました。

2だい はらって  
いきました。

しき  $6-2=$  4

(6 ひく 2 は 4)

こたえ 4 だい

② つぎの ひきざんを しましょう。

①  $5-2=3$                       ②  $6-4=2$

③  $7-3=4$                       ④  $2-1=1$

⑤  $9-1=8$                       ⑥  $8-7=1$

⑦  $3-1=2$                       ⑧  $7-5=2$

ひきざん (1)のひきざんを、こんなまちがいでしていませんか？

②      ③  $7-3=4$       **まちがいです**      ⑥  $8-7=1$       **まちがいです**

↓      ↓      ↓      ↓

3...数えひきまちがいで10...たし算をした。      2...数えひきまちがいで15...たし算をした。

←6      ←6

ひきざん (1)

のこりは いくら

月	日
12	17

ひきざん (1)

のこりは いくら

月	日
12	17

◆ つぎの ひきざんを しましょう。

①  $4-1=3$                       ②  $3-2=1$

③  $8-7=1$                       ④  $5-3=2$

⑤  $6-5=1$                       ⑥  $7-6=1$

⑦  $9-8=1$                       ⑧  $4-3=1$

⑨  $5-1=4$                       ⑩  $6-3=3$

⑪  $7-1=6$                       ⑫  $7-4=3$

⑬  $8-5=3$                       ⑭  $9-3=6$

⑮  $9-6=3$                       ⑯  $6-2=4$

⑰  $8-4=4$                       ⑱  $5-4=1$

⑲  $4-2=2$                       ⑳  $9-7=2$



8

ちがいは いくつ

月	10	日	10
時	50	分	3

ひきざんを しきて かき、けいざんを しましよう。

②の③・④は、**ひきざん**を **けいざん**で **チェック**ししよう。

① きんぎおは、めだかおしも なんびき おおいてしよう。



しき 8-6=2

こたえ 2 ひき

(8 ひき 6 ひき)

② つぎの ひきざんを しましよう。

① 10-5=5      ② 8-2=6

③ 9-2=7      ④ 10-1=9

⑤ 7-6=1      ⑥ 10-8=2

⑦ 10-3=7      ⑧ 7-4=3

⑨ 10-9=1      ⑩ 9-5=4

ひきざんをひき、こたえをかいていませぬか?

② ③ 9-2=7

6... 数えひきまちがい  
11... たし算をした。

6・12

⑦ ⑩ 10-3=7

6... 数えひきまちがい  
13... たし算をした。

6・12

計算・① - 25

ちがいは いくつ

月	12	日	17
時	50	分	3

◆ つぎの ひきざんを しましよう。

① 10-2=8      ② 9-3=6

③ 8-1=7      ④ 7-2=5

⑤ 9-4=5      ⑥ 10-4=6

⑦ 6-2=4      ⑧ 10-7=3

⑨ 9-1=8      ⑩ 8-3=5

⑪ 7-3=4      ⑫ 5-1=4

⑬ 4-1=3      ⑭ 10-6=4

⑮ 9-6=3      ⑯ 8-5=3

⑰ 6-4=2      ⑱ 9-7=2

⑲ 7-5=2      ⑳ 8-4=4

こたえ