

町たんけんの計画を立てよう! (こたえ)



午前 8 時 50 分



午前 10 時 30 分



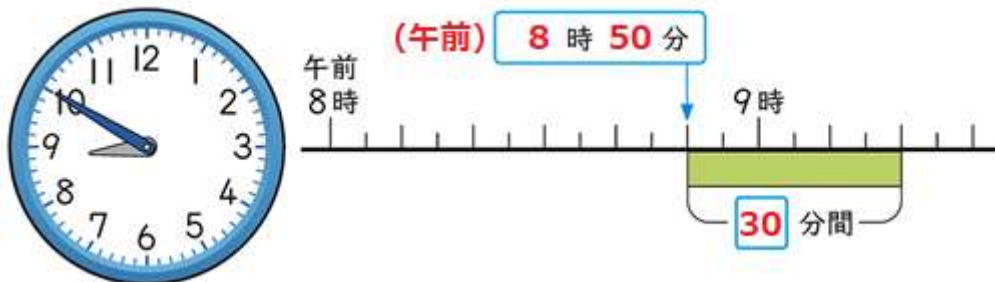
午前 11 時 20 分

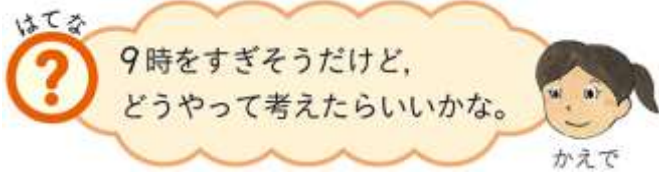
1

学校を午前 8 時 50 分に出発します。
学校から図書館まで歩く時間は 30 分間です。
図書館に着く時こくは何時何分でしょうか。

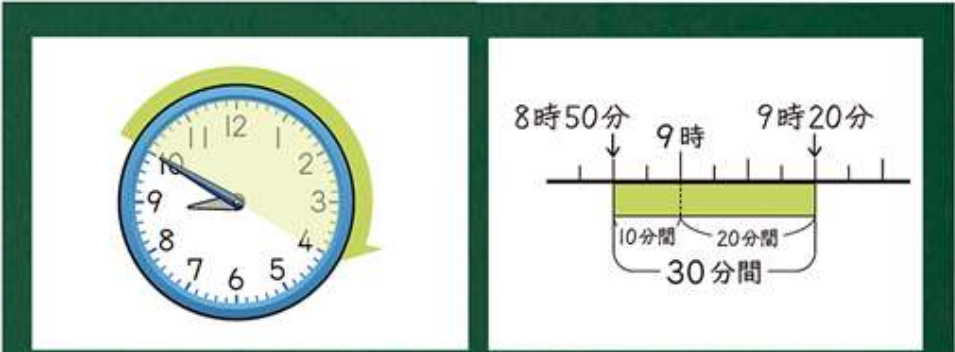


△1



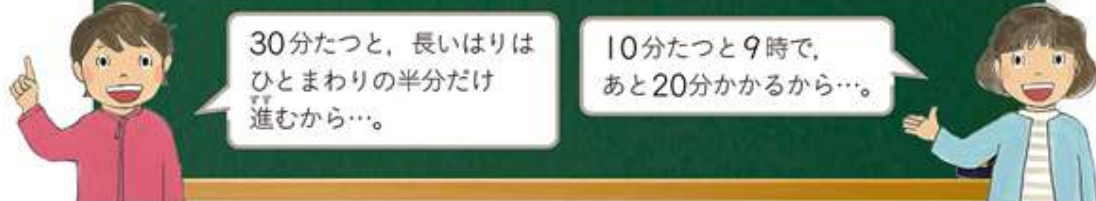


△2 図書館に着く時刻のもとめ方を
せつ明しましょう。



30分たつと、長いはり
はひとまわりの半分だけ
進むから…。

10分たつと9時で、
あと20分かかるから…。



答え 午前9時20分



だったら

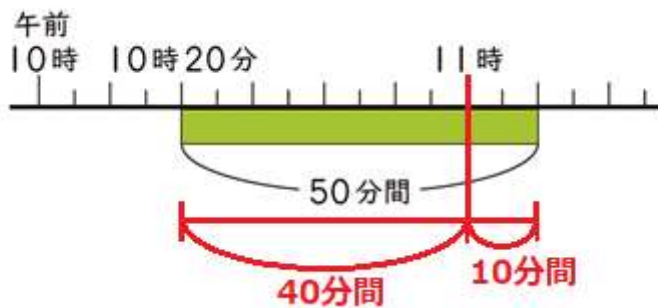


ほかの時こくでも、同じように
考えて計算できるのかな。



みなと

△3 午前 10 時 20 分から 50 分後の時こくは
何時何分でしょうか。 答え午前 11 時 10 分



△4 ふりかえり

なるほど



きりのよい時こくのところで
時間を分けると、考えやすくなるね。



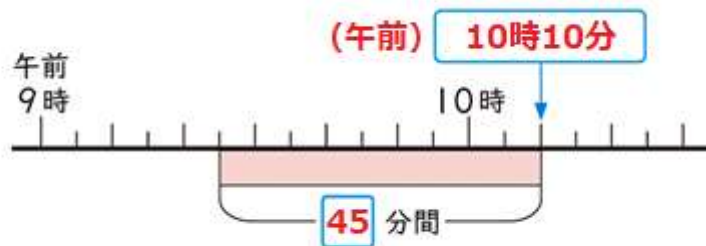
はる

- 1 ① 10 分たつと午前 11 時で、あと 10 分だから
午前 11 時 10 分。
- ② 35 分たつと午後 4 時で、あと 10 分だから
午後 4 時 10 分。
- 2 午後 1 時 10 分後で 12 時 (0 時)。
あと 1 時間だから、午後 1 時。

2

図書館を見学する時間は45分間で、午前10時10分までいます。
見学が始まる時刻は、何時何分でしょうか。

△1 10時10分から45分もどってみよう。



△2 答え 午前9時25分

□3 ① 15分もどると午後2時で、
あと10分もどるので、午後1時50分。

② 40分もどると午後5時で、
あと5分もどるので、午後4時55分。

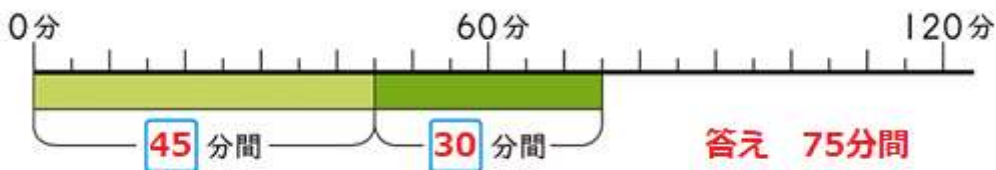
□4 午前11時30分

午後0時50分から1時間20分前もどるから
1時間と20分もどると考えて、

1時間もどると午前11時50分で、あと20分
もどると、午前11時30分になる。

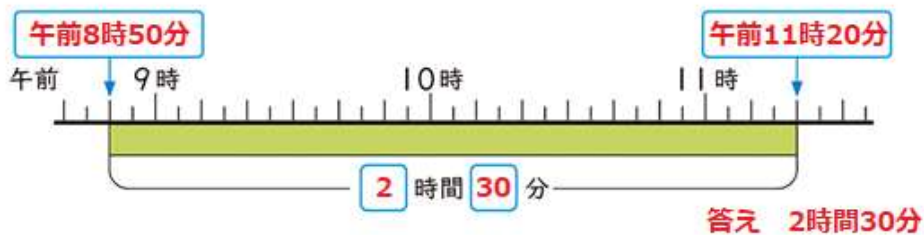
3

図書館を見学する時間は45分間で、消防^{しょうぼう}しょを見学する時間は30分間です。
あわせて何分間でしょうか。



4

町たんけん^{しゅっぱつ}に出発する時こくは午前8時50分で、
学校にもどってくる時こくは午前11時20分です。
町たんけんに出かけている時間は何時間何分
でしょうか。



- 5 ① 40分間と15分間をあわせて55分間。
② 午前8時までは35分間。あと10分だから
あわせて45分間。
- 6 1時間20分 (0時まで20分、あと1時間)

5

1分よりも短い時間について調べましょう。

▷1 おうちでやってみよう。

まとめ

◆ 時間の単位 秒

1分よりも短い時間の単位に秒があります。

1分=60秒

秒しんは1秒で1めもり進み、
60秒でひとまわりするよ。



▷2 15秒（びょう）

□7 1分10秒

60秒は1分だから、

70秒を60秒と10秒に分けて、

60秒を1分になおす。

□8 おうちでやってみよう。

目をとじて、1分間だと思ったら

手をあげよう！！

①

例

広場	→	ボート	→	ゴーカート	→	コーヒーカップ	→	広場
		10分		(25分)		10分		(15分)
						10分		(10分)
								10分

- ② 合計が1時間30分になるように、自分で考えて
おうちの人にみてもらおう。



 1 20 秒 (びょう)

1分より短い時間の単位に**秒 (びょう)**があります。

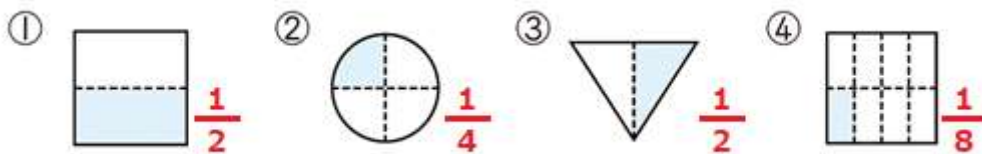
$$1 \text{ 分} = \boxed{60} \text{ 秒}$$

- 1 ①午前 10 時 15 分
②午後 3 時 55 分
- 2 ①65 分間 (65 分 1 時間 5 分)
②1 時間 20 分 (80 分間 80 分)
- 3 ①65 秒 ②130 秒

ふくしゅう①

□1 式 $34 - 18 = 16$ 答え 16 こ

□2



- 3 ①78 ②63 ③121 ④882
⑤65 ⑥18 ⑦48 ⑧656
⑨900 ⑩1300 ⑪400 ⑫800

□4

① $\begin{array}{r} 59 \\ +43 \\ \hline \cancel{9}2 \\ 102 \end{array}$	② $\begin{array}{r} 102 \\ -66 \\ \hline \cancel{4}6 \\ 36 \end{array}$
---	---

- ① 一の位からのくりあがりを、
十の位に足し忘れていました。
- ② 百の位からくり下がったことを忘れて
計算しています。

□5 式 $104 - 87 = 17$

答え 南小学校が 17 人多い。