

2年生の学習

年 組名前

^{けんこう} ^{ひょう}
○健康チェック表

^{こくご} ^{さんすう}
○国語・算数プリント


^{ずこう}
○図工

^{まいにち} ^{きにゅう}
毎日、記入しましょう。

^{まいにち} ^{いえ}
毎日やり、家の人に○をつけてもらい
ましょう。

^{いろ} ^{いえ}
色えんぴつ、クレヨンなど家にあるもの
^{じゆう} ^え
で自由に絵をかきましょう。








けんこう 健康チェック表








ひょう

ねん 年 ぐみ 組 なまえ 名前

へいおつ 平熱 $^{\circ}\text{C}$

おうちのひとと毎朝いっしょに、確認しましょう。こまめに手を洗ったり、せきエチケットや、食事・すいみんなど生活リズムにも気をつけよう。

日にち	体温 (°C)	症状(○をつける)					伝達事項 その他の症状などがあれば記入 (例) 朝食欲なく、 風邪薬服用。	歯みがきチェック (できたら○か色をぬろう!)		
		せき	のどの痛み	くしゃみ鼻水	だるさ	息苦しさ		あさ	ひる	よる
4月										
11(土)										
12(日)										
13(月)										
14(火)										
15(水)										
16(木)										
17(金)										
18(土)										
19(日)										
20(月)										
21(火)										
22(水)										
23(木)										
24(金)										
25(土)										

日にち	体温 (°C)	症状(○をつける)					伝達事項 その他の症状などがあれば記入 (例) 朝食欲なく、 風邪薬服用。	歯みがきチェック (できたら○か色をぬろう!)		
		せき	のどの痛み	くしゃみ鼻水	だるさ	息苦しさ		あさ	ひる	よる
4月										
26(日)										
27(月)										
28(火)										
29(水)										
30(木)										
5月										
1(金)										
2(土)										
3(日)										
4(月)										
5(火)										
6(水)										
7(木)										
8(金)										
9(土)										
10(日)										
11(月)										

学校がはじまったら、朝検温して、記録したものを毎日もってきてください。

五十おんず

名まえ

--

🌸 こえを だして よみま
しょう。

🌸 たてに よみましよう。
🌸 よこに よみましよう。

音どくしながら

ておんじかまじょう。

🌸 うえと おなじ ように、
ていねいに かきましよう。

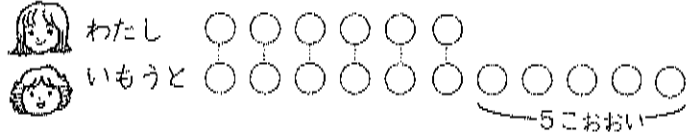
ん	わ	ら	や	ま	は	な	た	さ	か	あ
(い)	り	(い)	み	ひ	に	ち	し	き	い	
(う)	る	ゆ	む	ふ	ぬ	つ	す	く	う	
(え)	れ	(え)	め	へ	ね	て	せ	け	え	
	を	ろ	よ	も	ほ	の	と	そ	こ	お



よりおいしい
よりすくない(1)

なまえ

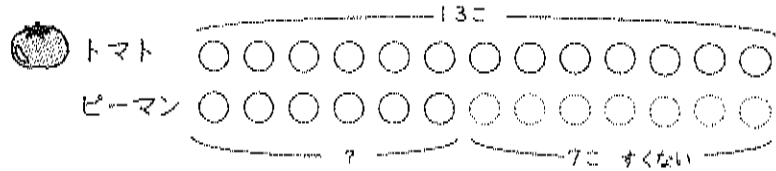
① わたしは キャラメルを 6こ もっています。いもうとは わたしより 5こ おおく もっています。いもうとは キャラメルを なんこ もっていますか。



しき

こたえ

② はたけて トマトを 13こ とりました。ピーマンは、トマトより 7こ すくなく とりました。ピーマンは なんこ とったてしょうか。



しき

こたえ

③ わたしは 12さいです。いもうとは わたしより 8さい としたです。いもうとは なんさいですか。



しき

こたえ

よりおいしい
よりすくない(2)

なまえ

4/14

① あかい おりがみが 7まい あります。あおい おりがみは あかい おりがみより 6まい おおいです。あおい おりがみは なんまい ありますか。



しき

こたえ

② ゲームを しました。たけるくんは 15てん、ゆうとくんは たけるくんより 6てん すくない てんすうでした。ゆうとくんは なんてんだったてしょうか。

しき

こたえ

③ いもほりに いきました。わたしは 8こ、ゆきさんは わたしより 7こ おおく いもを ほりました。ゆきさんは なんこ ほったてしょうか。



しき

こたえ

④ たまいれを しました。あかぐみは 14こ はいりました。しろぐみは あかぐみより 5こ すくなかったです。しろぐみは なんこ はいったてしょうか。




しき

こたえ

かたかなのひょう

名まえ



うえの かたかなをみて、したに ゆっくり ていねいに かきましよう。

かたかなのひょう

パ	バ	ダ	ザ	ガ	ン	ワ	ラ	ヤ	マ	ハ	ナ	タ	サ	カ	ア
ピ	ビ	チ	ジ	ギ		(イ)	リ	(イ)	ミ	ヒ	ニ	チ	シ	キ	イ
プ	ブ	ツ	ズ	グ		(ウ)	ル	ユ	ム	フ	ヌ	ツ	ス	ク	ウ
ペ	ベ	テ	ゼ	ゲ		(エ)	レ	(エ)	メ	ヘ	ネ	テ	セ	ケ	エ
ポ	ボ	ド	ゾ	ゴ		(フ)	ロ	ヨ	モ	ホ	ノ	ト	ソ	コ	オ

ちからだめし*10までのたしざん

□ けいさんを しましょう。(3×24)

- ① $5 + 3 =$
- ② $9 + 1 =$
- ③ $6 + 3 =$
- ④ $5 + 4 =$
- ⑤ $4 + 4 =$
- ⑥ $2 + 2 =$
- ⑦ $6 + 4 =$
- ⑧ $7 + 1 =$
- ⑨ $2 + 5 =$
- ⑩ $3 + 5 =$
- ⑪ $6 + 2 =$
- ⑫ $8 + 2 =$
- ⑬ $1 + 1 =$
- ⑭ $3 + 1 =$
- ⑮ $7 + 3 =$
- ⑯ $2 + 3 =$
- ⑰ $6 + 1 =$
- ⑱ $5 + 5 =$
- ⑲ $1 + 8 =$
- ⑳ $4 + 3 =$

- ㉑ $4 + 5 =$
- ㉒ $3 + 3 =$
- ㉓ $7 + 2 =$
- ㉔ $5 + 2 =$

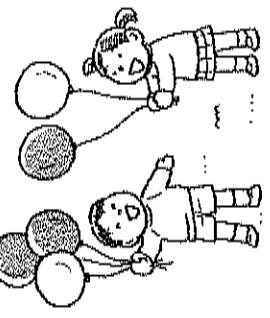
㉒ ちゅうしゃのように くるまが
6だい とまっています。そこへ
くるまが 4だい きました。ぜん
ぶで なんだいに なりましたか。(9)

しき



㉓ あかい りんごが 5こ、みどりの
りんごが 3こ あります。りんごは、
ぜんぶで なんこ ありますか。(9)

しき



㉔ えを みて、
 $3 + 2 = 5$ にな
る もんだいを
つくりましょう。
(10)

Four horizontal dashed lines for writing the answer to problem 24.

一つのことがわかったら、三回音どくしまおう。

ねじれた おと (五)


名まえ


🌻 おおきな こえで はっきり よみましょう。
 🌻 みて かいて なぞりましょう。


三回音どくしまおう。


ぢ		じ	
ゃ		ゃ	
ぢ		じ	
ゅ		ゅ	
ぢ		じ	
よ		よ	
き		じ	
ん		ゃ	
じ		ん	
よ		け	
		ん	

🌻 えを みて ひらがなで ことばを かきましょう。
 ことばを おおきな こえで はっきり よみましょう。

①  じ い も

②  じ

④  じ

⑤  じ づ はん ぢ

⑥ じ



たしざんかな
ひきざんかな(1)

なまえ

□ かえるが いけの なかに 4ひき, いけの そとに 6ひき います。かえるは, ぜんぶで なんびきですか。

しき



こたえ _____

□ ほっとけえきを 10まい やきました。みんなで 8まい たべました。のこりは なんまいですか。

しき



こたえ _____

□ おりがみで つるを 5こ つくりました。つぎの ひ, 2こ つくりました。あわせて なんこ つくった でしょうか。


しき



こたえ _____

□ あかい りんごが 7こ, きいろい りんごが 10こ あります。どちらの りんごが なんこ おおいですか。

しき



こたえ _____

たしざんかな
ひきざんかな(2)

なまえ

4/16

□ じゃんけんを 8かい やりました。そのうち, 5かい 勝ちました。なんかい まけたでしょうか。

しき



こたえ _____

□ わたしは かいを 6こ, いもうとは 9こ ひろいま した。どちらが なんこ おおいでしょうか。

しき



こたえ _____

□ れいぞうこに じゅうすが 3ぼん あります。おかあ さんが 5ぼん かってきました。じゅうすは, なんぼん に なりましたか。

しき



こたえ _____

□ しいるが 7まい ありました。いもうとに 3まい あげました。のこりは なんまいですか。

しき

こたえ _____

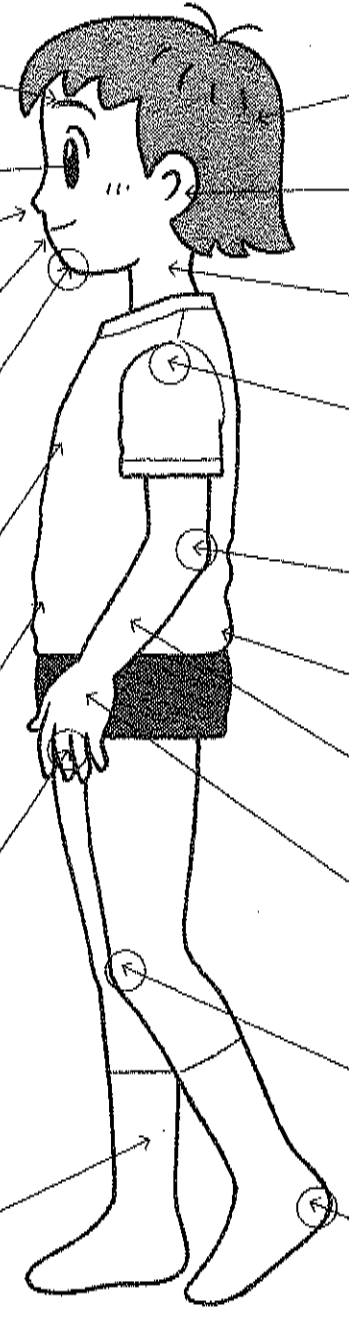
かん字

(二)

名まえ

左の えは 人の からだです。 □ に ひらがなで 名まえを
 かきましよう。 () に かん字を かきましよう。

かん字はまねてかきなさい。 かん字はまねてかきなさい。



- ①
- ②
- ③
- ④
- ⑤ ひじ
- ⑥
- ⑦
- ⑧
- ⑨
- ⑩ かかと

- ⑪
- ⑫
- ⑬
- ⑭
- ⑮
- ⑯ むね
- ⑰ はら
- ⑱
- ⑲

ちからだめし*10までのひきざん

□ けいざんをしましょう。(3×24)

- ① 7 - 2 =
- ② 10 - 2 =
- ③ 8 - 4 =
- ④ 9 - 7 =
- ⑤ 8 - 3 =
- ⑥ 6 - 2 =
- ⑦ 7 - 4 =
- ⑧ 10 - 9 =
- ⑨ 5 - 2 =
- ⑩ 9 - 6 =
- ⑪ 8 - 7 =
- ⑫ 10 - 5 =
- ⑬ 8 - 2 =
- ⑭ 6 - 1 =
- ⑮ 7 - 5 =
- ⑯ 3 - 1 =
- ⑰ 10 - 7 =
- ⑱ 6 - 4 =
- ⑲ 8 - 5 =
- ⑳ 9 - 3 =

- ㉑ 9 - 5 =
- ㉒ 5 - 4 =
- ㉓ 6 - 3 =
- ㉔ 4 - 2 =

㉒ あかい りんごと きいろい りん
 ごが あわせて 9こ あります。あ
 かい りんごは、4こです。きいろい
 りんごは なんこですか。(9)

しき



こたえ

㉓ はがきが 10まい あります。4
 まい つかいました。のこりは なん
 まいですか。(9)

しき



こたえ

㉔ ちやうが 8びき, てんとうむしが
 6びき います。どちらが なんびき
 おおいですか。(10)

しき



こたえ

一つのことばをかいたら、三回音どくしましやう。

①	ほ	せ	ん	か
②	が	つ	こ	
③	ほ	づ	え	
④	お	か	み	
⑤	と	せ	ん	ぼ
⑥	お	き	い	
⑦	と	く		
⑧	りんご	が	と	
⑨	く	る		
⑩	ど	ろ		
⑪	そ	め	ん	
⑫	ほ	ず	き	
⑬	こ	ろ	ぎ	
⑭	て	つ	ぼ	
⑮	い	も	と	
⑯	お	と		
⑰	お	め		
⑱	と	び		



□のなかに「う」「か」「お」をいれて、ことばをつくりまじやう。

ながい おと

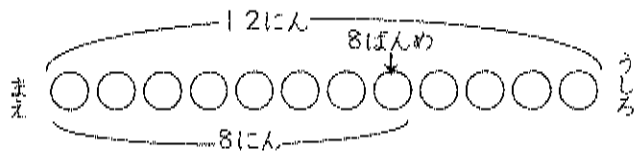
(三)

名まえ

6
ある。
いぬ

じゅんばん(1) なまえ

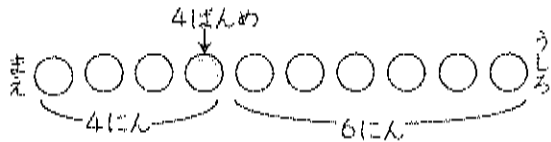
① こどもが 12にん ならんでいます。えりかさんは まえから 8ばんめです。えりかさんの うしろに なんにん いるでしょうか。



しき

こたえ

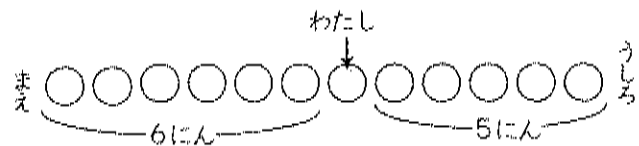
② こどもが いちれつに ならんでいます。かなさんは まえから 4ばんめです。うしろに 6にん います。ぜんぶで なんにん いますか。



しき

こたえ

③ いちれつに ならんでいます。わたしの まえに 6にん、わたしの うしろに 5にん います。ぜんぶで なんにん いるでしょうか。



しき

こたえ

じゅんばん(2) なまえ

4/20

● ずを かいて かんがえましょう。

① ゆうえんちで きしゃに 15にん のります。せいたく人は まえから 6ばんめです。せいたくんの うしろには なんにん いますか。

しき



こたえ

② バステいに ひとが ならんでいます。ゆかさんは まえから 7ばんめに います。ゆかさんの うしろに 4にん います。ぜんぶで なんにん いるでしょうか。

しき

こたえ

③ かけっこを しました。わたしの まえに 3にん、わたしの うしろに 3にん います。ぜんぶで なんにん いるでしょうか。

しき



こたえ

いろいろなふね

東京書籍「あたらしい国語」

名まえ

① 文を よんで もんだいに こたえましょう。

文を二回音どくしてからはじめよう。

① なんの ふねの ことが かいて ありますか。

きゃくせんは、たくさんの 人 をはこぶ ための ふねです。

② なんの ための ふねですか。

この ふねの 中には、きゃく しつや しよくどうが あります。

ための ふね です。

③ ふねの 中には、なにが ありますか。

人は きゃくしつで 休んだり、 しよくどうで しよくじを した り します。

「いろいろな ふねより」



② 文を よんで もんだいに こたえましょう。

① フェリーボートは、なんの ため の ふねですか。

フェリーボートは、たくさんの 人と じどう車を いっしょに はこぶ ための ふねです。

はこぶ ための ふねです。

② ふねの 中には、なにが ありま ですか。

この ふねの 中には、きゃく しつや 車を とめて おく と ころが あります。

人は、車を ふねに いれてか ら、きゃくしつで 休みます。

「いろいろな ふね」より

ちからだめし・たしざん・ひきざん

筆算

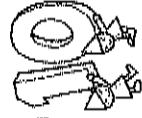
4/21

□ たしざんをしましょう。(3×10)



- ① $7+2=$
- ② $2+8=$
- ③ $4+3=$
- ④ $5+2=$
- ⑤ $3+5=$
- ⑥ $6+3=$
- ⑦ $4+4=$
- ⑧ $2+4=$
- ⑨ $1+6=$
- ⑩ $3+7=$

□ ひきざんをしましょう。(3×10)



- ① $10-2=$
- ② $9-6=$
- ③ $7-2=$
- ④ $10-9=$
- ⑤ $6-3=$
- ⑥ $8-4=$
- ⑦ $10-8=$
- ⑧ $7-4=$
- ⑨ $8-5=$
- ⑩ $10-4=$


③ ゆうたくんは かあどを 8まい、なおきくんは 5まい もっています。どちらが なんまい おおいでしょうか。(8)

しき

こたえ

④ かぶとむしを 3びき かっています。6びき, もらいました。かぶとむしは ぜんぶで なんびきになりましたか。(8)

しき



こたえ

⑤ あかと くろの きんぎょが あわせて 7ひき います。そのうち, あかの きんぎょは 3びきです。くろの きんぎょは なんびきでしょうか。(8)

しき



こたえ

⑥ たいやきが 10こ あります。かぞくて 6こ たべました。なんこのこっていますか。(8)

しき

こたえ

⑦ りんご じゅうずが 4ほん, みかん じゅうずが 3ほん あります。じゅうずは, あわせて なんほん ありますか。(8)

しき



こたえ

一つのことばをかいたら、
三回音どくしましょう。

はねる おと

名まえ

☘ □のなかに「ん」をかいて、ことばをつくりましょう。

☘ ことばが できたら うえを なぞりましょう。

☘ はっきり した こえで よみましょう。



おがく

しかせ

えびつ

せたくき

あばく

らどせる

おどく

きようび

うご

ほだな

かいだ

よもぎだ

そろば

おにのめ

れげ

ぶらこ

ぎがみ

ごきつね

れご

ぶらぶらか

たしざんかな
ひきざんかな (3) なまえ

□ はこに ぜりいと ぶりんが はいっています。ぜりいは 7こ あります。ぶりんは 9こ あります。どちらが なんこ おおいですか。

しき



こたえ

□ 4りょうの でんしゃと 5りょうの でんしゃをあわせると なんりょうに なりますか。

しき



こたえ

□ けんだまを 10かい しました。そのうち、7かい せいこうして たまが のりました。なんかい たまが のらなかつたでしょうか。

しき



こたえ

□ あかだまと しろだま あわせて 8こ あります。そのうち しろだまは 6こです。あかだまは なんこですか。

しき

こたえ

たしざんかな
ひきざんかな (4) なまえ

4/22

□ しゅんくんは かにを 3ひき, りょうくんは 4ひき つかまえました。あわせて なんひき かにを つかまえましたか。

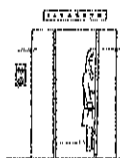
しき



こたえ

□ えれべえたあに 8にん のっていました。つぎの かいで ひとり おりました。えれべえたあの なかは なんにんに なりましたか。

しき



こたえ

□ いぬが 6ひき います。こいぬが 4ひき うまれました。いぬは、ぜんぶで なんひきに なりましたか。

しき



こたえ

□ おとこのこ おんなのこが あわせて 10にん います。おとこのこは 4にんです。おんなのこは なんにん いますか。

しき



こたえ

どんな 2

名まえ

てんすう

☺ 文を よんで、 もんだいに こたえましょう。

文を二回音読して、かいたえましょう。

(1) 目が さめた たろう
 くんは、いそいで きて
 いた パジャマを めぎ
 ました。

どんな パジャマでしたか。
 (20てん)
 た) パジャマ

(2) ふくを きて、ねむい
 目を こすりながら、
 一かいに おりました。

どんな 目を していたのですか。
 (20てん)
 い) 目

(3) せんめんじょに
 き、つめたい 水で、か
 おを あらいました。

どんな 水でしたか。
 (20てん) 9

(4) テーブルの 上には、
 できたての おいしそう
 な 目玉やきが ならん
 で いました。

目玉やきの せつめいを 二つ
 かきましょう。

①) (10てん) な
 ②) (10てん) の) 目玉やき

(5) あさごはんを たべた
 あと、一かい じゃなく、
 二かいの トイレに
 きました。

どちらの トイレに
 きましたか。
 (20てん)

□ けいさんを しましよ。 (3×24)

- ① $8 + 3 =$
- ② $9 + 4 =$
- ③ $5 + 7 =$
- ④ $6 + 8 =$
- ⑤ $7 + 4 =$
- ⑥ $4 + 9 =$
- ⑦ $7 + 8 =$
- ⑧ $5 + 6 =$
- ⑨ $8 + 9 =$
- ⑩ $6 + 6 =$
- ⑪ $7 + 7 =$
- ⑫ $4 + 7 =$
- ⑬ $9 + 9 =$
- ⑭ $8 + 6 =$
- ⑮ $6 + 9 =$
- ⑯ $2 + 9 =$
- ⑰ $8 + 8 =$
- ⑱ $7 + 5 =$
- ⑲ $9 + 7 =$
- ⑳ $3 + 9 =$



- ㉑ $7 + 6 =$
- ㉒ $9 + 5 =$
- ㉓ $9 + 8 =$
- ㉔ $5 + 9 =$

㉒ みゆさんは おりがみを 8まい もっています。せりさんは 7まい もっています。ふたり あわせて おりがみは なんまいになりますか。⁽¹⁰⁾

しき

こたえ

㉒ こうえんで こどもが 6にん あそんでいます。そこへ、5にん きました。こどもは、みんなて なんにんですか。⁽¹⁰⁾

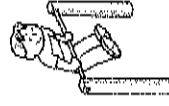
しき



こたえ

㉒ さかあがりの れんしゅうを しました。あさに 6かい、ひるから 8かい できました。あわせて なんかい できましたか。⁽¹⁰⁾

しき



こたえ

どい 2

名まえ

てんすう

☺ 文しようを よんで、もんだいに こたえましよう。

女をにかい音どくしてからはじめよう。

(1)

本を よみたく なつ たので、としよしつで よみました。出るまえ、 かりたい 本が あった ので、カウンターで カードに かきました。

① どこで、本を よみましたか。

(20てん)

② カードを かったのは、どこ ですか。

(20てん)

(2)

かえってから、べん きよべやで、かりた 本を よんで いました。すると、だいどころから、 いい においが して きました。

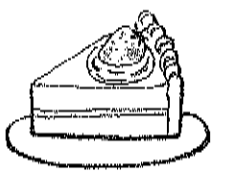
① かりた 本は、どこで よん でしたか。

(20てん)

② どこから、いい においが しましたか。

(20てん)

おかあさんが、やい た ケーキを、べんきよ べやに もって きて くれました。



③ おかあさんは、どこに ケー キを もって きて くれまし たか。

(20てん)

④

たしざんかな
ひきざんかな(1)

なまえ

㊦ にわとりが きのう たまごを 6こ うみました。きょうは、
7こ うみました。あわせて なんこに なりましたか。

しき



こたえ _____

㊧ ケーキが 12こ あります。9にん の こどもが 1こずつ
たべます。ケーキは、 なんこ ありますか。

しき



こたえ _____

㊨ 13ぼんの くじが あります。そのうち 5ぼんが あたり
です。はずれの くじは なんぼんですか。

しき

こたえ _____

㊩ にわに あかい はなが 7こ、しろい はなが 9こ さき
ました。あわせて なんこ さいたでしょうか。

しき



こたえ _____

たしざんかな
ひきざんかな(2)

なまえ

4/24

㊦ わたしは たこやきを 8こ、いもうとは 7こ たべまし
た。ふたり あわせて なんこ たべたでしょうか。

しき



こたえ _____

㊧ エレベーターに 9にん のっています。つぎの かいで 4
にん のりました。エレベーターの なかは なんにんに なり
ましたか。

しき

こたえ _____

㊨ なつやすみに りんさんは 7さつ ほんを よみました。も
もかさんは りんさんより 4さつ おおく よみました。もも
かさんは なんさつ ほんを よんだでしょうか。

しき



こたえ _____

㊩ バスに おきゃくが 15にん のっていました。つぎの バ
スでいて 7にん おりました。バスの なかは なんにんに
なりましたか。

しき



こたえ _____

どきん 2

名まえ

てんすう

☺ 文しようを よんで、もんだいに ったえましよう。

女をにかい音どくしてからはじめよう。

(1)

本を よみたく なつ たので、としよしつで よみました。出るまえ、 かりたい 本が あつた ので、カウンターで カードに かきました。

① どこで、本を よみましたか。

(20てん)

② カードを かったのは、どこ ですか。

(20てん)

(2)

かえつてから、べん きようべやで、かりた 本を よんで いました。 すると、だいたいどこから、 いい においが して きました。

① かりた 本は、どこで よん でしたか。

(20てん)

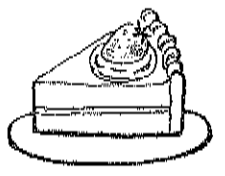
② どこから、いい においが しましたか。

(20てん)

おかあさんが、やい た ケーキを、べんきよ うべやに もつて き て くれました。

③ おかあさんは、どこに ケー キを もつて きて くれまし たか。

(20てん)




に

たしざんかな
ひきざんかな(1)

なまえ

□ にわとりが きのう たまごを 6こ うみました。きょうは、
7こ うみました。あわせて なんこに なりましたか。

しき



こたえ _____

□ ケーキが 12こ あります。9にん の こどもが 1こずつ
たべます。ケーキは、 なんこ ありますか。

しき



こたえ _____

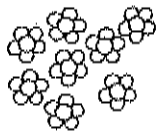
□ 13ぼんの くじが あります。そのうち 5ぼんが あたり
です。はずれの くじは なんぼんですか。

しき

こたえ _____

□ にわに あかい はなが 7こ、しろい はなが 9こ さき
ました。あわせて なんこ さいたでしょうか。

しき



こたえ _____

たしざんかな
ひきざんかな(2)

なまえ

4/4

□ わたしは たこやきを 8こ、いもうとは 7こ たべまし
た。ふたり あわせて なんこ たべたでしょうか。

しき



こたえ _____

□ エレベーターに 9にん のっています。つぎの かいで 4
にん のりました。エレベーターの なかは なんにんに なり
ましたか。

しき

こたえ _____

□ なつやすみに りんさんは 7さつ ほんを よみました。も
もかさんは りんさんより 4さつ おおく よみました。もも
かさんは なんさつ ほんを よんだでしょうか。

しき



こたえ _____

□ バスに おきゃくが 15にん のっていました。つぎの バ
スでいて 7にん おりました。バスの なかは なんにんに
なりましたか。

しき



こたえ _____

ぞうさんの はな

学校図書「りかやさんすうがすきになるねんせいのよみもの」

名まえ

文を よんで もんだいに こたえましょう。
文を一回、音どくしてからはじめよう。

① ぞうの はなは、どんな やくに
たちますか。

ぞうの はなは、とっても や
くに たつ。まきつけ たばね
すいつけ ひっぱり かきよせる
…。

りんごなんか かんたんに す
いつける。

すいかは、まきつけ 口の
中へ ほうりこむ。ひと口で む
しゃむしゃさ。

おや？ ピーナツが おちて
いる。ちっちゃいから みむきも
しないと、おもった。

ちよいと つまんで 口へ 入
れた。

でも、どうやって とったのだ
ろう。はなの さきに まめみた
いな でっぱりが ある。これで
つまむんだ。

ぞうの はなは、ストローだ。
ズズズー。見るまに、水が す
いあがる。あつい 日は、水あそ
び。はなは、シャワーに はやが
わり。

~~~~~  
~~~~~  
~~~~~  
~~~~~  
~~~~~  
~~~~~  
~~~~~  
~~~~~  
~~~~~  
~~~~~

② どのよう^に して 口へ はこびま
すか。

りんごは
すいかは

ピーナツは

③ 水を のむとき、はなは なにに
なりませうか。

~~~~~  
~~~~~  
~~~~~  
~~~~~  
~~~~~  
~~~~~  
~~~~~  
~~~~~  
~~~~~  
~~~~~

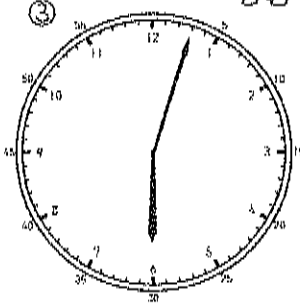

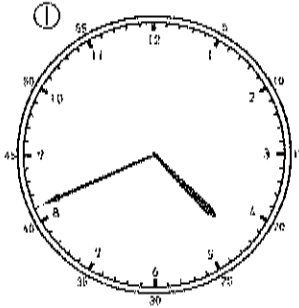
④ あつい 日は、はなは なにに はや
がわり しますか。

~~~~~  
~~~~~  
~~~~~  
~~~~~  
~~~~~  
~~~~~  
~~~~~  
~~~~~  
~~~~~  
~~~~~


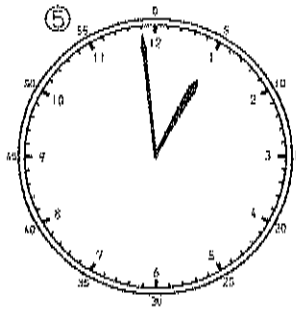
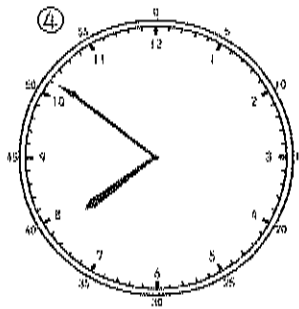
堀井光孝 作「ぞうさんの はな」より

とけい②(2) なまえ

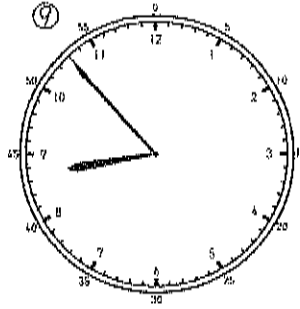
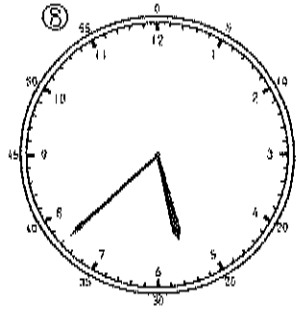
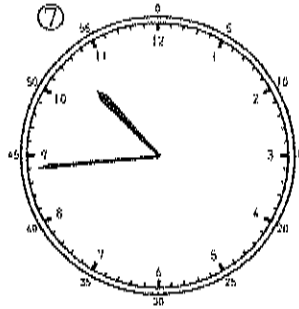
● なんじ なんぷんでしょう。



()じ()ぷん()じ()ぷん()じ()ぷん



()じ()ぷん()じ()ぷん()じ()ぷん

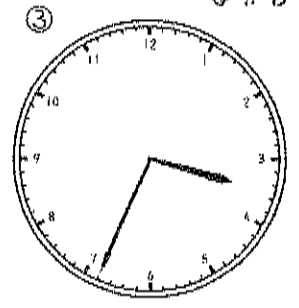
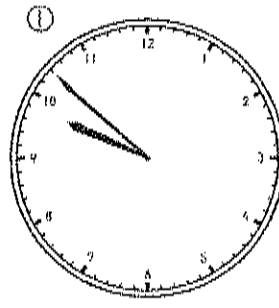


()じ()ぷん()じ()ぷん()じ()ぷん

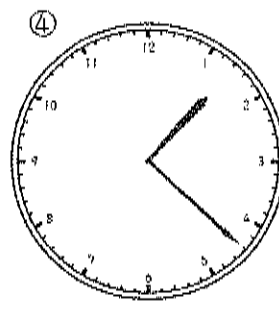
とけい②(3) なまえ

4/27

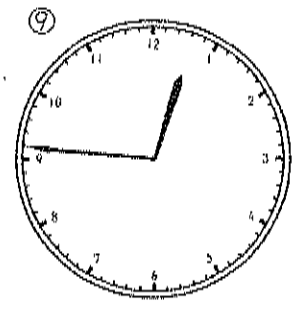
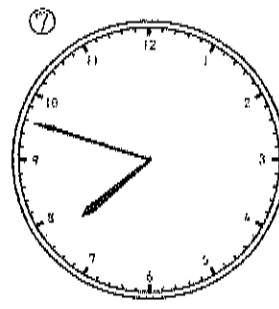
● なんじ なんぷんでしょう。



()じ()ぷん()じ()ぷん()じ()ぷん



()じ()ぷん()じ()ぷん()じ()ぷん



()じ()ぷん()じ()ぷん()じ()ぷん

なにをする 1

なまえ

てんすう



文を よんで、 もんだいに ついたえましよう。

文を三かい音どくすからにはじめよう。

(1)

おとうさんが、
を よんで います。

おとうさんが、
を よんで いますか。

を よんで います。

(20てん)

(2)

おかあさんが、
を 見て います。

おかあさんが、
を 見て いますか。

を 見て います。

(20てん)

(3)

おばあちゃんが、
いちゃんに はなしかけ
ました。

おばあちゃんが、
だれに はな
しかけましたか。

に はなしかけ
ました。

(20てん)

(4)

おにいちゃんが、
くから かえって きま
した。

おにいちゃんが、
どこから か
えって きましたか。

から かえって
きました。

(20てん)

(5)

おねえちゃんは、
ンダへ いきました。

おねえちゃんは、
どこへ いき
ましたか。

へ いきました。

(20てん)

ちからだめし・ひきざん

くりさがり

なまえ

4/28

□ けいさんを しましう。(3x24)

- ① $6-8=$
- ② $3-4=$
- ③ $4-6=$
- ④ $1-9=$
- ⑤ $2-7=$
- ⑥ $6-7=$
- ⑦ $2-9=$
- ⑧ $3-5=$
- ⑨ $1-4=$
- ⑩ $7-8=$
- ⑪ $2-6=$
- ⑫ $5-8=$
- ⑬ $1-7=$
- ⑭ $4-9=$
- ⑮ $5-6=$
- ⑯ $3-6=$
- ⑰ $2-5=$
- ⑱ $1-2=$
- ⑲ $6-9=$
- ⑳ $3-7=$

⑳

- ㉑ $8-9=$
- ㉒ $4-7=$
- ㉓ $1-6=$
- ㉔ $3-9=$

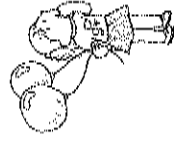
㉒ しろと ちやいろの たまごが あわ
せて 16こ あります。そのうち しろ
い たまごは 9こです。ちやいろの
たまごは なんこ ありますか。④

しき

こたえ

㉓ ふうせんが 11こ あります。4こ
とんで いきました。ふうせんは の
こり なんこに なりましたか。④

しき



こたえ

㉔ あかい はなが 15ほん さいてい
ます。きいろい はなが 7ほん さ
いでいます。あかい はなは きいろ
い はなより なんほん おおいで
すか。①①

しき

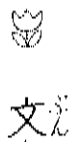


こたえ

じゃんけん

東京書籍「あたしといっしょに」

名まえ



文を よんで もんだいに

こたえましよう。

文を一回、音どくして

からはじめよう。

① じゃんけんをする ときは、

じゃんけんをする とき、

「グー」「チョキ」「パー」の

どれかを 出します。

どれを 出しても、かつた

りまけたり します。どう

してでしょう。

「グー」は、石を あらわ

して います。「チョキ」は

はさみ、「パー」は かみを

あらわして います。

「グー」は、「チョキ」に

かちます。石は、はさみでは

きれません。

「チョキ」は、「パー」に

かちます。はさみは、かみを

きる ことが できます。

「パー」は、「グー」にか

ちます。かみは、石を つつ

んで しまうからです。

「じゃんけん」

でします。

② () に じゃんけんの どれか
を いれましょう。

ア、石を あらわすのは

です。

イ、はさみを あらわすのは

です。

ウ、かみを あらわすのは

です。

③ 「グー」が 「チョキ」に かつのは
どうしてですか。

から。

④ 「チョキ」が 「パー」に かつのは
どうしてですか。

から。

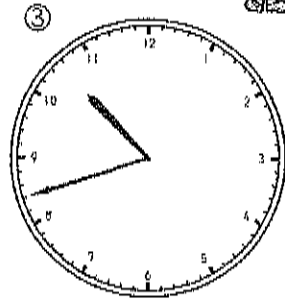
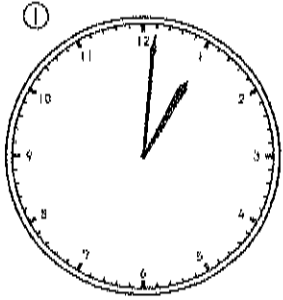
⑤ 「パー」が 「グー」に かつのは
どうしてですか。

から。

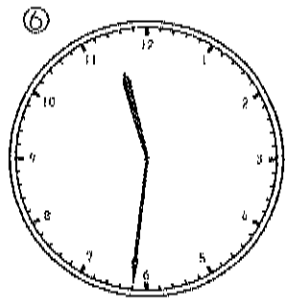
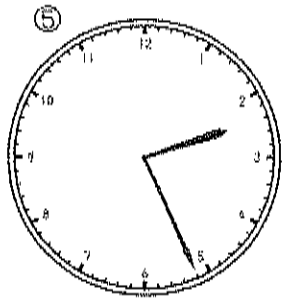
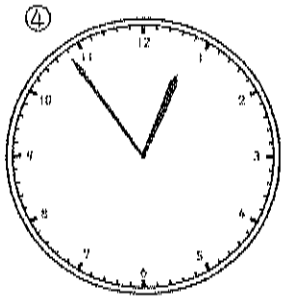
とけい②(4)

なまえ

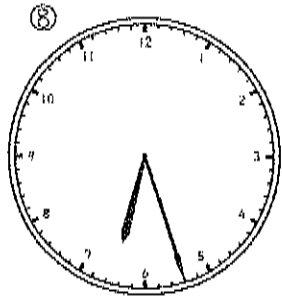
● なんじ なんぷんでしょう。



()じ()ぷん ()じ()ぷん ()じ()ぷん



()じ()ぷん ()じ()ぷん ()じ()ぷん



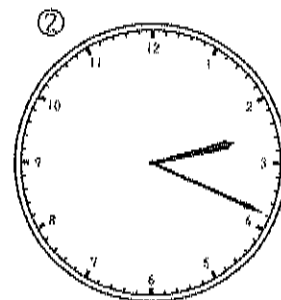
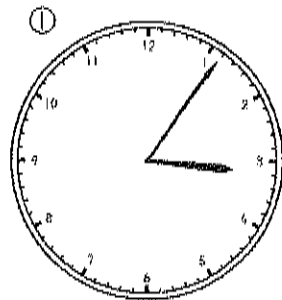
()じ()ぷん ()じ()ぷん ()じ()ぷん

とけい②(5)

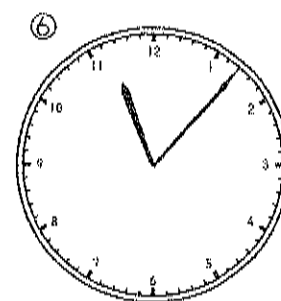
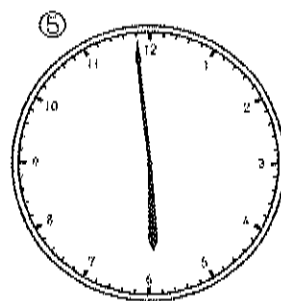
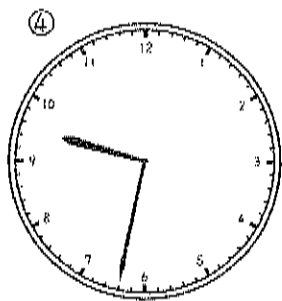
なまえ

4/30

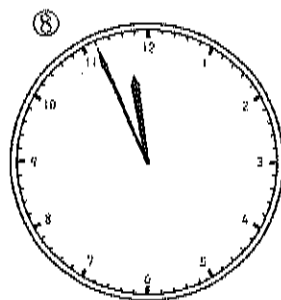
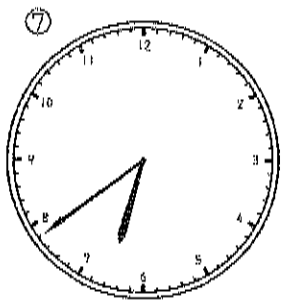
● なんじ なんぷんでしょう。



()じ()ぷん ()じ()ぷん ()じ()ぷん



()じ()ぷん ()じ()ぷん ()じ()ぷん



()じ()ぷん ()じ()ぷん ()じ()ぷん

どんな 1

名まえ

てんすう

☺ 文を よんで、 もんだいに ことえましよう。

文を三から音でくつからはじめよう。

どんな お日さまですか。(20てん)

(1) あかるい お日さま
が、にわを てらして
います。

（ ） お日さま

(2) さわやかな かぜが、
そよそよと ふいて
います。

（ ） どのな かぜですか。(20てん)
（ ） かぜ

(3) 青い あさがおが、た
くさん さいて います。

（ ） どのな あさがおですか。(20てん)
（ ） あさがお

(4) あさがおの はっぱ
に、かがやく あさつゆ
がついて います。

（ ） どのな あさつゆですか。(20てん)
（ ） あさつゆ

(5) だいどころでは、早お
きの おかあさんが、お
いしい あさごはんを
つくって います。

（ ） どのな あさごはんですか。(20てん)
（ ） あさごはん

ひきざん 5

なまえ

くりさがり 50もん

① 4-9=

② 1-6=

③ 4-8=

④ 5-8=

⑤ 5-7=

⑥ 6-9=

⑦ 2-7=

⑧ 7-8=

⑨ 3-8=

⑩ 6-9=

⑪ 2-6=

⑫ 3-4=

⑬ 2-4=

⑭ 4-5=

⑮ 7-9=

⑯ 3-8=

⑰ 7-8=

⑱ 2-5=

⑲ 1-3=

⑳ 5-9=

㉑ 3-7=

㉒ 4-6=

㉓ 1-2=

㉔ 1-4=

㉕ 5-6=

㉖ 2-9=

㉗ 6-7=

㉘ 3-9=

㉙ 8-9=

㉚ 2-8=

㉛ 1-5=

㉜ 6-8=

㉝ 3-6=

㉞ 1-7=

㉟ 7-9=

㊱ 6-8=

㊲ 2-3=

㊳ 2-4=

㊴ 3-8=

㊵ 7-8=

㊶ 3-6=

㊷ 4-6=

㊸ 1-5=

㊹ 2-7=

㊺ 1-8=

㊻ 3-5=

㊼ 5-6=

㊽ 3-9=

㊾ 3-6=

㊿ 4-7=



ひきざん 6

なまえ

くりさがり 50もん

5/17

① 3-5=

② 6-7=

③ 5-8=

④ 1-7=

⑤ 7-8=

⑥ 3-8=

⑦ 7-9=

⑧ 0-7=

⑨ 1-4=

⑩ 3-6=

⑪ 2-4=

⑫ 4-7=

⑬ 5-9=

⑭ 4-9=

⑮ 1-6=

⑯ 1-8=

⑰ 7-8=

⑱ 6-9=

⑲ 3-6=

⑳ 1-3=

㉑ 5-7=

㉒ 5-8=

㉓ 2-7=

㉔ 4-9=

㉕ 2-9=

㉖ 6-7=

㉗ 2-3=

㉘ 4-7=

㉙ 3-4=

㉚ 8-9=

㉛ 5-6=

㉜ 0-6=

㉝ 3-7=

㉞ 3-6=

㉟ 4-8=

㊱ 2-8=

㊲ 8-9=

㊳ 3-8=

㊴ 6-8=

㊵ 1-5=

㊶ 2-5=

㊷ 4-8=

㊸ 3-7=

㊹ 4-6=

㊺ 3-9=

㊻ 2-6=

㊼ 7-9=

㊽ 2-6=

㊾ 4-5=

㊿ 4-7=



ほけんしつ

光村図書「ほけんしつ」から

名まえ

🌸 文をよんでこたえましょう。

文をよんでこたえましょう。

わたしは、ほけんしつに
いきました。

けがをしたときや、

あいのわるいときに

くところでは

くすりのにおいが
しました。

「たんけんじだま、みつけだま」より

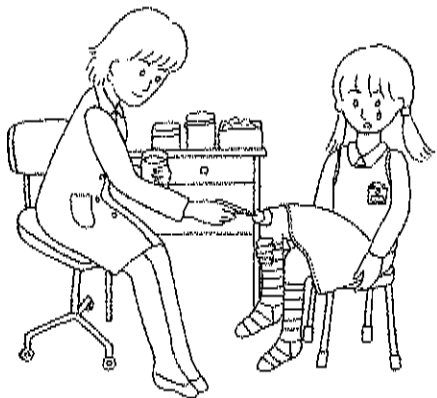
① わたしは、どこへ
いきましたか。

② どんなときにいく
ところですか。

③ どんなにおいが
しましたか。

_____ のにおい

🌸 ほけんしつは、ほかにど
んなことをするときに
いくところですか。



ひきざん 7

(くりさがり) 50もん

ひきざん
え

① 2-6=

④ 3-8=

⑦ 1-5=

⑩ 4-8=

⑬ 5-9=

⑯ 4-9=

⑰ 1-4=

⑳ 2-9=

㉓ 3-7=

㉖ 5-8=

㉙ 3-6=

㉛ 6-8=

㉞ 3-7=

㊱ 2-5=

㊴ 7-9=

㊷ 4-7=

㊺ 1-5=

② 5-9=

⑤ 1-8=

⑧ 6-7=

⑪ 3-9=

⑭ 4-9=

⑱ 2-5=

㉒ 8-9=

㉕ 6-8=

㉘ 7-9=

㉜ 2-7=

㉟ 4-9=

㊲ 5-6=

㊵ 3-9=

㊸ 1-6=

㊻ 4-7=

㊾ 8-9=

㊿ 6-7=

③ 2-4=

⑥ 4-8=

⑨ 6-9=

⑫ 3-8=

⑮ 1-7=

⑲ 5-7=

㉑ 4-5=

㉔ 3-4=

㉗ 7-8=

㉚ 1-3=

㉝ 2-8=

㉠ 3-5=

㉣ 6-9=

㉦ 1-2=

㉩ 4-6=

㉫ 1-9=



ひきざん 8

(くりさがり) 50もん

ひきざん
え

5/8

① 1-2=

④ 6-7=

⑦ 7-9=

⑩ 1-5=

⑬ 7-9=

⑯ 4-7=

⑰ 1-9=

㉒ 5-6=

㉕ 4-9=

㉘ 3-8=

㉚ 2-3=

㉝ 4-6=

㉞ 4-5=

㉟ 1-3=

㊲ 3-5=

㊵ 6-8=

㊸ 2-7=

② 2-4=

⑤ 4-9=

⑧ 8-9=

⑪ 3-9=

⑭ 5-7=

⑱ 2-3=

㉒ 5-8=

㉕ 4-8=

㉘ 1-4=

㉚ 5-7=

㉝ 4-5=

㉞ 6-7=

㉟ 7-9=

㊱ 2-6=

㊴ 3-4=

㊷ 8-9=

㊺ 4-7=

③ 5-8=

⑥ 6-9=

⑨ 3-7=

⑫ 5-6=

⑮ 1-4=

⑲ 3-6=

㉑ 3-7=

㉔ 5-9=

㉗ 1-7=

㉚ 3-4=

㉝ 7-8=

㉞ 2-8=




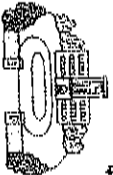














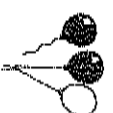
















㉟ 2-5=

㊱ 6-9=

㊴ 1-6=

㊷ 4-8=



7		ロボット	7		やちゆう やきゆう やちゆう	6		しゃしん しゅうしん ししん	5		がっこう がこう がっこ	4		けえと とけい けいど	3		たんぼほ たほほ たんぼほ	2		たのみ たみ たのみ
14		りんご りんご りんご	14		はちゆう はちゆう はちゆう	13		としじう としじう としじう	12		むしほ むしほ むしほ	11		ふうせん ふうせん ふうせん	10		はかき はかき はかき	9		ひとり ひとり ひとり
21		たんぱりん たんぱりん たんぱりん	21		しんきゆう しんきゆう しんきゆう	20		しゃくだい しゃくだい しゃくだい	19		かけこ かけこ かけこ	18		ふうせん ふうせん ふうせん	17		てしな てしな てしな	16		かに かに かに
28		ラジオ ラジオ ラジオ	28		じゆう じゆう じゆう	27		しよむ しよむ しよむ	26		だつぱ だつぱ だつぱ	25		まほう まほう まほう	24		ともだち ともだち ともだち	23		ひまわり ひまわり ひまわり
35		ソーダ ソーダ ソーダ	35		まなこ まなこ まなこ	34		にひやく にひやく にひやく	33		おにこ おにこ おにこ	32		おにい おにい おにい	31		かごめ かごめ かごめ	30		くも くも くも

片 () 狗畏 () 測 () 促 () 畏 () 濁 () 濁 ()

おまけ 1分間、はかしてあげよう。



1	おしなみゆめ
2	うていごもりんご
3	おねえさんひこうきぞう
4	らっぱよつかけつこ
5	ちやいろしよくしおしやべり
6	れんしゆうじゆきようじようようしや
7	キャラメルタクシーオートバイ
8	しかたかなたぬき
9	にじじぶんおぼやん
10	てつぼうゆうやけいせん
11	はっけんしつぱはっぱ
12	れっしやしよつきじてんしや
13	ひようそんちようきようぞう
14	ラムネフルーツテント

15	はきみれんごんけしき
16	てんわじごくせき
17	にひやくおんごさんれいぞうこ
18	きつぱいびきがらつこ
19	せいしよあくしゆいしや
20	しやうがくせいちやうちやうちん
21	メダルニキサーポテト
22	ちからしおまと
23	くちびるこくばんぞうとん
24	がようしせんぷうきすもう
25	がつきがらつこらっぱ
26	としよしつしやりんちやわん
27	しやうがつちゆういしゆつじよう
28	オルガンレストランブロッコリー

29	はたらななせつご
30	かんじかんぱんいずみ
31	くいしんぼんぱんごうごもろこし
32	ほつべたかつぱまつくら
33	じゆんぱんやんびやくしよくとん
34	はくちまごころちゆうきゆうり
35	バゲツストローハイキング

片() 物長() 物() 紙() 紙() 紙() 紙()

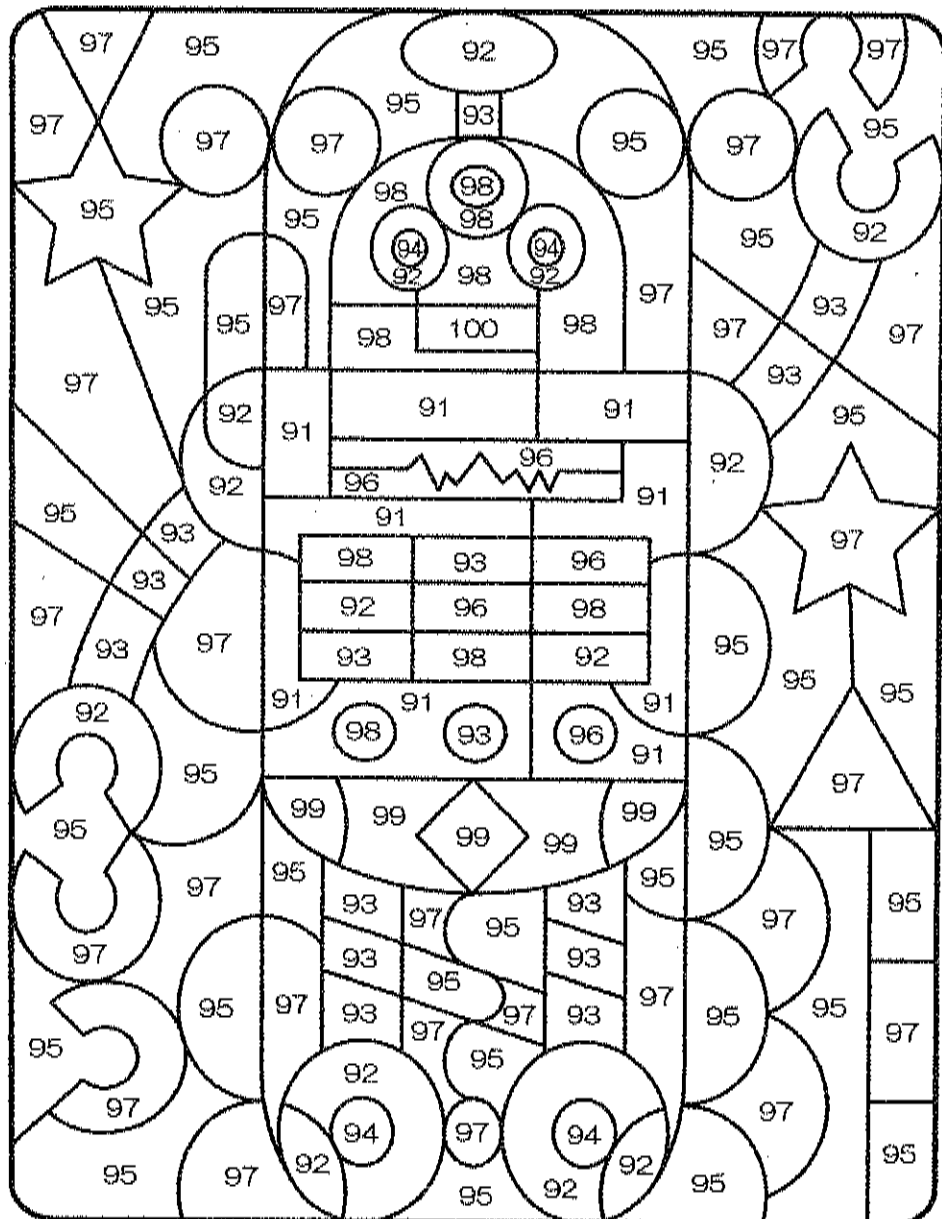
片() 物長() 物() 紙() 紙() 紙() 紙()

かまけ 1分間 はかてあらいぬぐ

○すうじ めりえ パズル

なにが でてくるかな？ いろを めって みましょう。

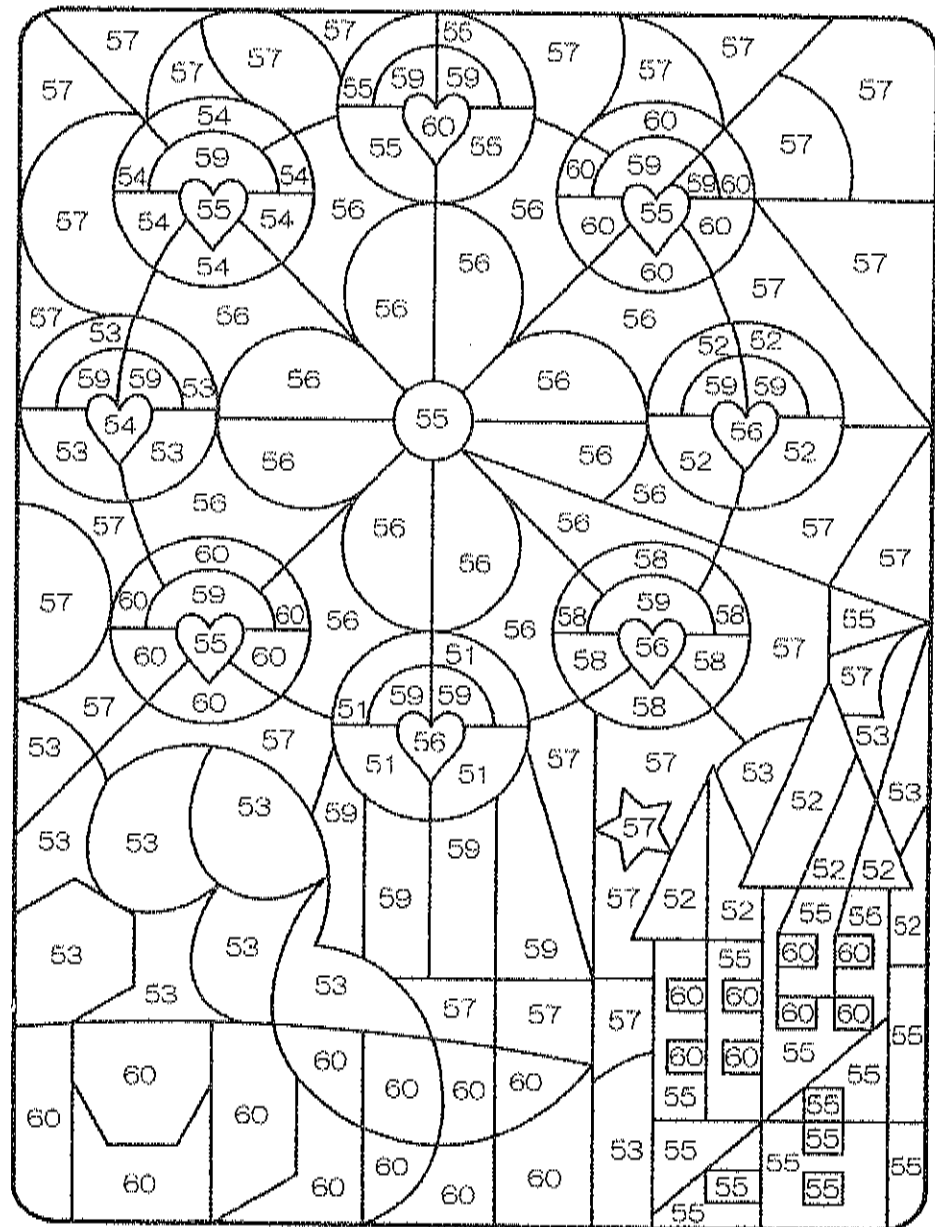
91=だいたいいろ 92=きいろ 93=あか 94=くろ
96=きみどり 98=みずいろ 99=むらさき 100=ももいろ



○すうじ めりえ パズル

なにが でてくるかな？ いろを めって みましょう。

51=むらさき 52=あか 53=みどり 54=きみどり 55=きいろ
56=ももいろ 58=あお 59=みずいろ 60=だいたいいろ



おまけ



解答

国語ページと算数ページに分かれています。



五十おんず

名まえ

こたえ

🌸 こえを だして よみま
しょう。

🌸 たてに よみましよう。
🌸 よこに よみましよう。

音どくしながら

てにおんずをかきましよう。

🌸 うえと おなじし ように、
ていねいに かきましよう。

ん	わ	ら	や	ま	は	な	た	さ	か	あ
(い)	り	(い)	み	ひ	に	ち	し	き	い	
(う)	る	ゆ	む	ふ	ぬ	つ	す	く	う	
(え)	れ	(え)	め	へ	ね	て	せ	け	え	
を	ろ	よ	も	ほ	の	と	そ	こ	お	

/									
---	--	--	--	--	--	--	--	--	--



一つのことばをかいたら、三回音どくしましよ。

⑤



うさぎが

ぴよんぴよん

はねる。

④



はっ

ぴゃくえん

③



びよ

うぶ

②



じてんしゃを

びゅんびゅん

こく。

①



さん

びゃくえん

🌸

えをみて ひらがなで ことばを かきましよう。
 ことばを おおきな こえで はっきり よみましよう。

ひ		ひ	
ゃ		ゃ	
び		び	
ゅ		ゅ	
ぴ		ぴ	
よ		よ	
は		び	
っ		よ	
ぴ		う	
よ		い	
う		ん	

三回音どくしましよ。

🌸 おおきな こえで はっきり よみましよう。ゆっくと
 🌸 見て かいて なぞりましよう。

ねじれた おと (六)

名まえ

かたかなのひょう

名まえ

うえの かたかなを みて、 したに ゆっくり いていねい に かきましよう。

かたかなのひょう

パ	バ	ダ	ザ	ガ	ン	ワ	ラ	ヤ	マ	ハ	ナ	タ	サ	カ	ア
ピ	ビ	チ	ジ	ギ	(イ)	リ	(イ)	ミ	ヒ	ニ	チ	シ	キ	イ	
プ	ブ	ツ	ズ	グ	(ウ)	ル	ユ	ム	フ	ヌ	ツ	ス	ク	ウ	
ペ	ベ	テ	ゼ	ゲ	(エ)	レ	(エ)	メ	ヘ	ネ	テ	セ	ケ	エ	
ポ	ボ	ド	ゾ	ゴ	(ヲ)	ロ	ヨ	モ	ホ	ノ	ト	ソ	コ	オ	

一つのことはEカいた。二回音とくしましや。

⑥ に じ ゅ う と び



⑤ ご はん ち ゃ わ ん



④ じ ゅ う ろ

② じ ゅ う え ん

③ ん じ ゃ ん け

① じ ゃ が い も

① えをみて ひらがなで ことばを かきましよう。
 ことばを おおきな こえで はっきり よみましよう。

ぢ		じ	
ゃ		ゃ	
ぢ		じ	
ゅ		ゅ	
ぢ		じ	
よ		よ	
き		じ	
ん		ゃ	
じ		ん	
よ		け	
		ん	

おおきな こえで はっきり よみましよう。ゆんづと。
 みて かいて なぞりましよう。三回音とくましよう。

ねじれた おと (五)

各まえ

かん字

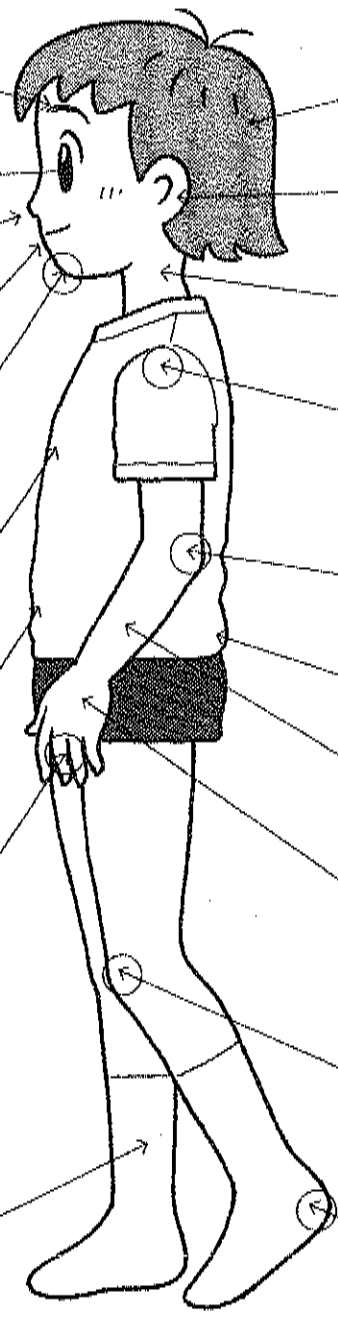
(二)

名まえ

このことばをかいたら、三回音どくしましよう。

左の えは 人の からだです。□に ひらがなで 名まえを かきましよう。()に かん字を かきましよう。

- ① あたま
かみのけ
- ② みみ (耳)
- ③ くび
- ④ かた
- ⑤ ひじ
- ⑥ こし
- ⑦ うで
- ⑧ て (手)
- ⑨ ひざ
- ⑩ かかと



- ⑪ まゆげ
- ⑫ め (目)
- ⑬ はな
- ⑭ くち (口)
- ⑮ あご
- ⑯ むね
- ⑰ はら
- ⑱ ゆび
- あし

一つのことは2回、一回百回くりまわす。

⑬	と う す	⑮	い も う と	⑭	こ お ろ ぎ	⑯	そ う め ん	⑰	と お ろ く	⑱	と お せ ん ば	⑲	ほ お づ え	⑳	ひ う せ ん か
---	-------------	---	------------------	---	------------------	---	------------------	---	------------------	---	-----------------------	---	------------------	---	-----------------------



⑮	す い と う	⑰	こ お り	⑱	お と う と	⑲	て づ ぼ う	⑳	ほ お ず き	㉑	ど う ろ	㉒	りんごが と お ある。	㉓	お お き い いぬ	㉔	お お か み	㉕	が し こ う
---	------------------	---	-------------	---	------------------	---	------------------	---	------------------	---	-------------	---	-----------------------	---	------------------------	---	------------------	---	------------------

☘ □のなかに「う」「か」「お」をいれて、ことばをつくりまわす。

ながい おと (三)

名まえ

いろいろなふね

東京書籍「あたらしい国語」第二下

名まえ

① 文を よんで もんだいに ことえましよう。

文を二回音どくしてからはじめよう。

① なんの ふねの ことが かいて ありますか。

きやくせん

② なんの ための ふねですか。

人をほこぶ

ための ふね です。

③ ふねの 中には、なにが ありますか。

きやくしつ

しよくどう

「いろいろなふね」より

きやくせんは、たくさんの 人 をはこぶ ための ふねです。
この ふねの 中には、きやく しつや しよくどうが あります。 人は きやくしつで 休んだり、 しよくどうで しよくじを したり します。



② 文を よんで もんだいに

ことえましよう。

① フェリーボートは、なんの ための ふねですか。

人

じどう車

はこぶ ための ふねです。

② ふねの 中には、なにが ありますか。

きやくしつ

車をとめて

おくとこ

フェリーボートは、たくさんの 人と じどう車を いっしょに はこぶ ための ふねです。
この ふねの 中には、きやく しつや 車を とめて おくところ があります。
人は、車を ふねに 入れてから、きやくしつで 休みます。

「いろいろなふね」より

一つの言葉をかいたら、

三回音どくしましょう。

れんごん

ぎんがみ

れんげ

そろばん

かいだん

うんご

おんどく

あんばん

えんびつ

おんがく

ごぶんかん

ごんぎつね

ぶらんこ

おにのめん

よもぎだんご

ぼんだな

きんようび

らんどせる

せんたくき

しんかんせん

- ☺ □のなかに「ん」をかいて、ことばをつくりましょう。
- ☺ ことばができたなら、うえを、なぞりましょう。
- ☺ はっきりした、こえて、よみましょう。



はねる おと

名まえ

どんな 2

名まえ

てんすう

☺ 文を よんで、もんだいに こたえましょう。
文を三回音読してくださいから、はじめよう。

(1) 目が さめた たろう
 くんは、いそいで きて
 いた パジャマを ぬぎ
 ました。

どんな パジャマでしたか。
 (20てん)

(おそ)いた (パジャマ)

(2) ふくを きて、ねむい
 目を こすりながら、
 一かいに おりました。

どんな 目を していたのです
 か。
 (20てん)

(ねむ)い (目)

(3) せんめんじよにい
 き、つめたい 水で、か
 おを あらいました。

どんな 水でしたか。
 (20てん)

(つめ)たい (水)

(4) テーブルの 上には、
 できたての おいしそ
 うな 目玉やきが ならん
 でした。

目玉やきの せつめいを 二つ
 かきましたよ。
 (10てん)

(でき)たて (の) (目玉やき)

どちらの トイレに いきまし
 たか。
 (20てん)

(5) あさごはんを たべた
 あと、一かい じゃなく、
 二かいの トイレに い
 きました。

(二かい)の (トイレ)

どうし 2

名まえ

てんすう

😊 文しようを よんで、もんだいに こたえましよう。

(1) **女をこかい音どくしてから、はじめよう。**

本を よみたく なつたので、としよしつでよみました。出るまえ、かりたい 本が あったので、カウンターでカードに かきました。

① どこで、本を よみましたか。(20てん)

(と)しよしつ (で)

② カードを かったのは、どこですか。(20てん)

(カ)ウンタ-

(2)

かえってから、べんきようべやで、かりた本を よんで いました。すると、だいどころから、いい においが してきました。

① かりた 本は、どこで いただきましたか。(20てん)

(べん)きようべ(や) (で)

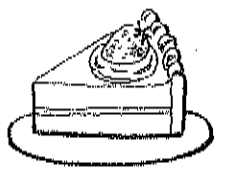
② どこから、いい においが しましたか。(20てん)

(だ)いどころ (から)

おかあさんが、やいた ケーキを、べんきようべやに もって きて くれました。

③ おかあさんは、どこに ケーキを もって きて くれましたか。(20てん)

(べん)きようべ(や) (に)



ぞうさんの はな

学校図書「りかやさんすうがすきになるーねんせいのみもの」

名まえ

👑 文を よんで もんだいに こたえましょう。

文を一回、音どくしてからはじめよう。

① ぞうの はなは、どんな やくに たちますか。

ぞうの はなは、とつても や
くに たつ。まきつけ たばね
すいつけ ひっぱり かきよせる

まきつける

…

たばねる

りんごなんか かんたんに す
いつける。

すいつける

すいかは、まきつけ 口の

中へ ほうりこむ。ひと口で む

むっばる

しゃむしゃさ。

おや？ ピーナツが おちて

いる。ちっちゃいから みむきも

かきよせる

など

しないと、おもった。

② どのように して 口へ はこびま

すか。

りんごは すいつける

すいかは まきつける

ちよいと つまんで 口へ 入
れた。

ピーナツは つまむ

でも、どうやって とつたのだ
ろう。はなの さきに まめみた
いな でっぱりが ある。これで
つまむんだ。

③ 水を のむとき、はなは なにに
なりませうか。

ストロー

に

なります。

ぞうの はなは、ストローだ。
ズズズズー。見るまに、水が す
いあがる。あつい 日は、水あそ
び。はなは、シャワーに はやが

④ あつい 日、はなは なにに はや
がわり しますか。

シャワー

なにをする

1

なまえ

てんすう

☺ 文を よんで、 もんだいに つたえましょう。

文を三か、音どくしからはじめよう。

(1) おとうさんが、ざっし
を よんで います。

おとうさんが、なにを よんで
いますか。 (20てん)

ざっし

を よんで
います。

(2) おかあさんが、テレビ
を 見て います。

おかあさんが、なにを 見て
いますか。 (20てん)

テレビ

を 見て
います。

(3) おばあちゃんが、おじ
いちゃんに はなしかけ
ました。

おばあちゃんが、だれに はな
しかけましたか。 (20てん)

おじいちゃんに

はなしかけ
ました。

(4) おにいちゃんが、じゅ
くから かえって きま
しました。

おにいちゃんが、どこから か
えって ききましたか。 (20てん)

じゅく

から かえって
きました。

(5) おねえちゃんは、ベラ
ンダへ いきました。

おねえちゃんは、どこへ いき
ましたか。 (20てん)

ベランダ

へ
いきました。

じゃんけん

漢字検定「あたらしいことば」(一下)

名まえ

文を よんで もんだいに

文を一回音どくして

じゃんけんをする とき、

「グー」「チョキ」「パー」の

どれかを 出します。

どれを 出しても、かつた

りまけたり します。どう

してでしょう。

「グー」は、石を あらわ

して います。「チョキ」は

はさみ、「パー」は かみを

あらわして います。

「グー」は、「チョキ」に

かちます。石は、はさみでは

きれません。

「チョキ」は、「パー」に

かちます。はさみは、かみを

きる ことが できます。

「パー」は、「グー」にか

ちます。かみは、石を つつ

んで しまふからです。

「じゃんけん」より

こたえましょう。

から、はじめよう。

① じゃんけんを する ときは、

グー チョキ

パー 出します。

② (一)に じゃんけんの どれか

を いれましょう。

グー 出、石を あらわすのは 出します。

イ、はさみを あらわすのは

チョキ 出、かみを あらわすのは

ウ、かみを あらわすのは

パー 出します。

③ 「グー」が 「チョキ」に かつのは

どうしてですか。

石は、はさみで 出します。

きれない から。

④ 「チョキ」が 「パー」に かつのは

どうしてですか。

はさみは、かみを 出します。

きる ことが できます から。

⑤ 「パー」が 「グー」に かつのは

どうしてですか。

かみは、石を つつんで 出します。

石を つつんで しまふ から。

どんな 1

名まえ

てんすう

😊 文を よんで、もんだいに こたえましょう。

文を三かい音ぶくしてからはじめよう。

(1) どんな お日さまですか。(20てん)

あかるい お日さま
が、にわを てらして
います。

あかるい
お日さま

(2) どんな かぜですか。(20てん)

さわやかな かぜが、
そよそよと ふいて い
ます。

さわやかな
かぜ

(3) どんな あさがおですか。(20てん)

青い あさがおが、た
くさん さいて います。

青い
あさがお

(4) どんな あさつゆですか。(20てん)

あさがおの はっぱ
に、かがやく あさつゆ
が ついて います。

かがやく
あさつゆ

(5) どんな あさごはんですか。(20てん)

だいどころでは、早お
きの おかあさんが、お
いしい あさごはんを
つくって います。

おいしい
あさごはん

ほけんしつ

光村圖書「こくご・一ねん上 かかぐるま」

名まえ

🌸 文を よんで ことえましよう。

文を音、音どくしてから、はじめよう。

① わたしは、どこへ いきましたか。

ほけんしつ

② どんな ときに いくところですか。

けがをした

とき

ぐあいのわるい

とき

③ どんな においが しましたか。

くすつ

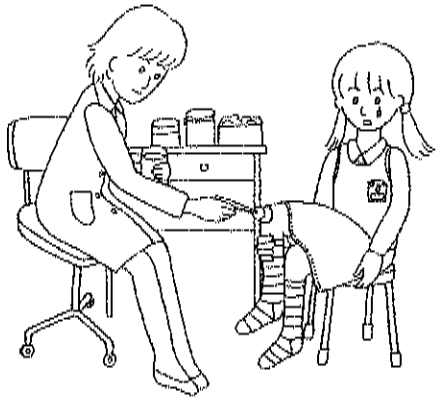
の におい

🌸 ほけんしつは、ほかに どんな ことを する ときに いく ところですか。

しんたいさくして、

けいさく

など...



わたしは、ほけんしつに
いきました。

けがを した ときや、ぐ

あいの わるい ときに
く ところ です。

くすりの においが しま
した。

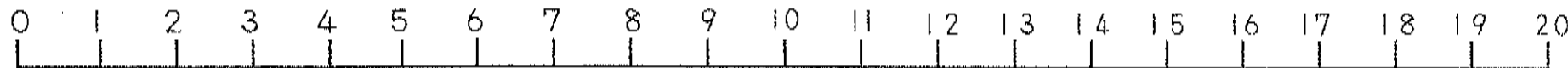
「だんけんしたよ、みつけたよ」「すり

20までの かず (4)

なまえ



● かずの せんを つかって、かんがえましょう。



□ どちらの かずが おおきいでしょうか。

おおきい ほうに ○を かきましょう。

① (**17** と 16) ② (**20** と 19)

③ (11 と **12**) ④ (**15** と 13)

⑤ (**18** と 17) ⑥ (14 と **16**)

⑦ (**20** と 12) ⑧ (10 と **11**)

⑨ (**19** と 18) ⑩ (9 と **13**)

② □に かずを かきましょう。

① 15 16 17 18 19 20

② 18 17 16 15 14 13

③ 6 8 10 12 14 16

④ 10 12 14 16 18 20

③ つぎの かずは いくつですか。□に かずを かきましょう。


① 16より 4 おおきい かず **20**

② 19より 2 ちいさい かず **17**

③ 17より 3 おおきい かず **20**

④ 15より 5 ちいさい かず **10**

めいろは、かずの おおきいほうを とおりましょう。とあった かずをしたの □に かきましょう。

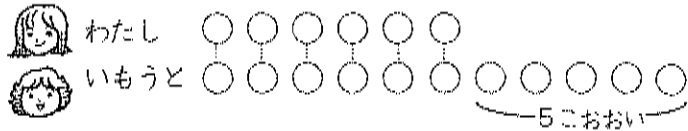


① **20** ② **16** ③ **19** ④ **14**

よりおいしい よりすくない(1)

なまえ


□ わたしは キャラメルを 6こ もっています。いもうとは わたしより 5こ おおく もっています。いもうとは キャラメルを なんこ もっていますか。



しき $6 + 5 = 11$

こたえ 11こ

□ はたけて トマトを 13こ とりました。ピーマンは、トマトより 7こ すくなく とりました。ピーマンは なんこ とったてしょうか。



しき $13 - 7 = 6$

こたえ 6こ

□ わたしは 12さいです。いもうとは わたしより 8さい としたです。いもうとは なんさいですか。

しき $12 - 8 = 4$



こたえ 4さい

よりおいしい よりすくない(2)

なまえ

□ あかい おりがみが 7まい あります。あおい おりがみは あかい おりがみより 6まい おおいです。あおい おりがみ は なんまい ありますか。



しき $7 + 6 = 13$

こたえ 13まい

□ ゲームを しました。たけるくんは 15てん、ゆうとくんは たけるくんより 6てん すくなく てんすうてした。ゆうとくんは なんてんだったてしょうか。

しき $15 - 6 = 9$

こたえ 9てん

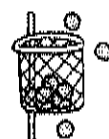
□ いもほりに いきました。わたしは 8こ、ゆきさんは わたしより 7こ おおく いもを ほりました。ゆきさんは なんこ ほったてしょうか。



しき $8 + 7 = 15$

こたえ 15こ

□ たまいれを しました。あかぐみは 14こ はいりました。しろぐみは あかぐみより 5こ すくなく ったです。しろぐみは なんこ はいったてしょうか。



しき $14 - 5 = 9$

こたえ 9こ

ちからだめし*10までのたしざん

なまえ

□ けいさんを しましょう。(3×24)

- ① $5 + 3 = 8$
- ② $9 + 1 = 10$
- ③ $6 + 3 = 9$
- ④ $5 + 4 = 9$
- ⑤ $4 + 4 = 8$
- ⑥ $2 + 2 = 4$
- ⑦ $6 + 4 = 10$
- ⑧ $7 + 1 = 8$
- ⑨ $2 + 5 = 7$
- ⑩ $3 + 5 = 8$
- ⑪ $6 + 2 = 8$
- ⑫ $8 + 2 = 10$
- ⑬ $1 + 1 = 2$
- ⑭ $3 + 1 = 4$
- ⑮ $7 + 3 = 10$
- ⑯ $2 + 3 = 5$
- ⑰ $6 + 1 = 7$
- ⑱ $5 + 5 = 10$
- ⑲ $1 + 8 = 9$
- ⑳ $4 + 3 = 7$

③

- ㉑ $4 + 5 = 9$
- ㉒ $3 + 3 = 6$
- ㉓ $7 + 2 = 9$
- ㉔ $5 + 2 = 7$

㉒ ちゅうしゃのように くるまが
6だい とまっています。そこへ
くるまが 4だい きました。ぜん
ぶで なんだいに なりましたか。(19)

しき $6 + 4 = 10$



こたえ 10だい


㉓ あかい りんごが 5こ、みどりの
りんごが 3こ あります。りんごは、
ぜんぶで なんこ ありますか。(19)

しき $5 + 3 = 8$



こたえ 8こ

㉔ えを みて、
 $3 + 2 = 5$ にな
る もんだいを
つくりましょう。
(10)



たろうさんは ふうせんを 3こ
ちがいでいます。はなこさんは 2こ
ふうせんを もらいました。ふうせ
んは ぜんぶでいくつになりましたか。

たしざんかな
ひきざんかな(1)

なまえ

□ かえるが いけの なかに 4ひき, いけの そとに 6ひき います。かえるは, ぜんぶで なんひきですか。

しき $4 + 6 = 10$



こたえ 10 ひき

□ ほっとけえきを 10まい やきました。みんなで 8まい たべました。のこりは なんまいですか。

しき $10 - 8 = 2$



こたえ 2 まい

□ おりがみで つるを 5こ つくりました。つぎの ひ, 2こ つくりました。あわせて なんこ つくった でしょうか。


しき $5 + 2 = 7$



こたえ 7 こ

□ あかい りんごが 7こ, きいろい りんごが 10こ あります。どちらの りんごが なんこ おおいですか。

しき $10 - 7 = 3$



こたえ きいろいりんごが 3こおおい。

たしざんかな
ひきざんかな(2)

なまえ

□ じゃんけんを 8かい やりました。そのうち, 5かい 勝ちました。なんかい まけたでしょうか。

しき $8 - 5 = 3$



こたえ 3 かい

□ わたしは かいを 6こ, いもうとは 9こ ひろいま した。どちらが なんこ おおいででしょうか。

しき $9 - 6 = 3$



こたえ いもうとが 3こおおい。

□ れいぞうこに じゅうすが 3ぼん あります。おかあ さんが 5ぼん かってきました。じゅうすは, なんぼん に なりましたか。

しき $3 + 5 = 8$



こたえ 8 ぼん

□ しいるが 7まい ありました。いもうとに 3まい あげました。のこりは なんまいですか。

しき $7 - 3 = 4$

こたえ 4 まい

ちからだめし*10までのひきざん

なまえ

□ けいざんをしましょう。(3x24)

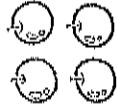
- ① $7-2=5$
- ② $10-2=8$
- ③ $8-4=4$
- ④ $9-7=2$
- ⑤ $8-3=5$
- ⑥ $6-2=4$
- ⑦ $7-4=3$
- ⑧ $10-9=1$
- ⑨ $5-2=3$
- ⑩ $9-6=3$
- ⑪ $8-7=1$
- ⑫ $10-5=5$
- ⑬ $8-2=6$
- ⑭ $6-1=5$
- ⑮ $7-5=2$
- ⑯ $3-1=2$
- ⑰ $10-7=3$
- ⑱ $6-4=2$
- ⑲ $8-5=3$
- ⑳ $9-3=6$

5

- ㉑ $9-5=4$
- ㉒ $5-4=1$
- ㉓ $6-3=3$
- ㉔ $4-2=2$

㉒ あかいりんごと きいろいりんごが あわせて 9こ あります。あかいりんごは、4こです。きいろいりんごは なんこですか。(9)

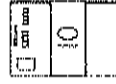
しき $9-4=5$



こたえ 5こ

㉓ はがきが 10まい あります。4まい つかいました。のこりは なんまいですか。(10)

しき $10-4=6$



こたえ 6まい

㉔ ちようが 8びき, てんとうむしが 6びき います。どちらが なんびき おおいですか。(10)

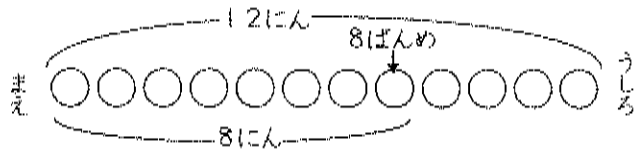
しき $8-6=2$



こたえ ちようが 2ひき おお

じゅんばん(1) なまえ

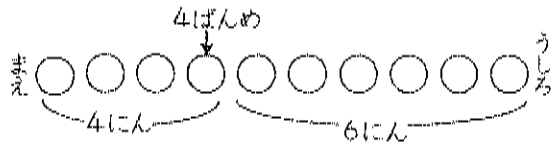
① こどもが 12にん ならんでいます。えりかさんは まえから 8ばんめです。えりかさんの うしろに なんにん いるでしょうか。



しき $12 - 8 = 4$

こたえ 4にん

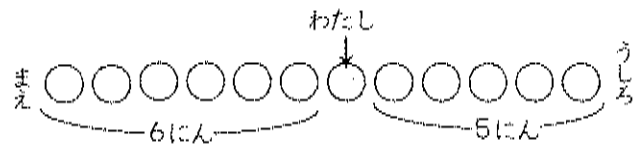
② こどもが いちれつに ならんでいます。かなさんは まえから 4ばんめです。うしろに 6にん います。ぜんぶで なんにん いますか。



しき $4 + 6 = 10$

こたえ 10にん

③ いちれつに ならんでいます。わたしの まえに 6にん、わたしの うしろに 5にん います。ぜんぶで なんにん いるでしょうか。



しき $6 + 5 = 11$

こたえ 11にん

じゅんばん(2) なまえ

● ずを かいて かんがえましょう。

① ゆうえんちで きしゃに 15にん のります。せいたく人は まえから 6ばんめです。せいたくんの うしろには なんにん いますか。

しき $15 - 6 = 9$



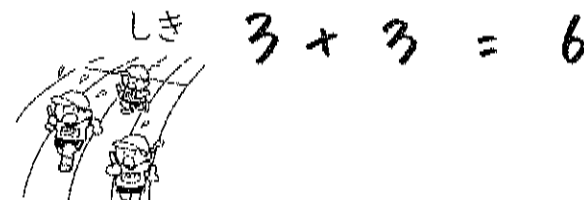
こたえ 9にん

② バスでいに ひとが ならんでいます。ゆかさんは まえから 7ばんめに います。ゆかさんの うしろに 4にん います。ぜんぶで なんにん いるでしょうか。

しき $7 + 4 = 11$

こたえ 11にん

③ かけっこを しました。わたしの まえに 3にん、わたしの うしろに 3にん います。ぜんぶで なんにん いるでしょうか。



こたえ 6にん

ちからだめし・たしざん・ひきざん

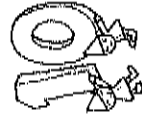
集え

□ たしざんをしましょう。(3×10)



- ① $7+2=9$
- ② $2+8=10$
- ③ $4+3=7$
- ④ $5+2=7$
- ⑤ $3+5=8$
- ⑥ $6+3=9$
- ⑦ $4+4=8$
- ⑧ $2+4=6$
- ⑨ $1+6=7$
- ⑩ $3+7=10$

□ ひきざんをしましょう。(3×10)



- ① $10-2=8$
- ② $9-6=3$
- ③ $7-2=5$
- ④ $10-9=1$
- ⑤ $6-3=3$
- ⑥ $8-4=4$
- ⑦ $10-8=2$
- ⑧ $7-4=3$
- ⑨ $8-5=3$
- ⑩ $10-4=6$

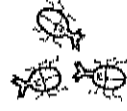
③ ゆうたく人は かあどを 8まい、なおきくんは 5まい もっています。どちらが なんまい おおいてしょうか。⁽⁸⁾

しき $8-5=3$

こたえ ゆうたく人が 3まいおおい

④ かぶとむしを 3びき かつています。6びき、もらいました。かぶとむしは ぜんぶで なんびきになりましたか。⁽⁸⁾

しき $3+6=9$



こたえ 9びき

⑤ あかと くの きんぎょが あわせて 7ひき います。そのうち、あかの きんぎょは 3びきです。くの きんぎょは なんびきでしょうか。⁽⁸⁾

しき $7-3=4$



こたえ 4びき

⑥ たいやきが 10こ あります。かそくて 6こ たべました。なんこのこって いますか。⁽⁸⁾

しき $10-6=4$

こたえ 4こ

⑦ りんご じゅうすが 4ほん、みかん じゅうすが 3ほん あります。じゅうすは、あわせて なんほん ありますか。⁽⁸⁾

しき $4+3=7$



こたえ 7ほん

たしざんかな
ひきざんかな(3)

なまえ

- ① はこに ぜりいと ぷりんが はいっています。ぜりいは 7こ あります。ぷりんは 9こ あります。どちらが なんこ おおいですか。

しき $9 - 7 = 2$



こたえ ぷりんが 2こ おおい

- ② 4りょうの でんしゃと 5りょうの でんしゃを あわせると なんりょうに なりますか。

しき $4 + 5 = 9$



こたえ 9りょう

- ③ けんだまを 10かい しました。そのうち、7かい せいこうして たまが のりました。なんかい たまが のらなかつたでしょうか。

しき $10 - 7 = 3$



こたえ 3かい

- ④ あかだまと しろだま あわせて 8こ あります。そのうち しろだまは 6こです。あかだまは なんこですか。

しき $8 - 6 = 2$



こたえ 2こ

たしざんかな
ひきざんかな(4)

なまえ

- ① しゅんくんは かにを 3ひき, りょうくんは 4ひき つかまえました。あわせて なんひき かにを つかまえましたか。

しき $3 + 4 = 7$



こたえ 7ひき

- ② えれべえたあに 8にん のっていました。つぎの かいで ひとり おりました。えれべえたあの なかは なんにんに なりましたか。



しき $8 - 1 = 7$

こたえ 7にん

- ③ いぬが 6ひき います。こいぬが 4ひき うまれました。いぬは, ぜんぶで なんひきに なりましたか。

しき $6 + 4 = 10$



こたえ 10ひき

- ④ おとこのこと おんなのこが あわせて 10にん います。おとこのこは 4にんです。おんなのこは なんにん いますか。

しき $10 - 4 = 6$



こたえ 6にん

ちからだめし・たしざん くりあがり

なまえ

□ けいさんを しましう。(3x24)

- ① $8 + 3 = 11$
- ② $9 + 4 = 13$
- ③ $5 + 7 = 12$
- ④ $6 + 8 = 14$
- ⑤ $7 + 4 = 11$
- ⑥ $4 + 9 = 13$
- ⑦ $7 + 8 = 15$
- ⑧ $5 + 6 = 11$
- ⑨ $8 + 9 = 17$
- ⑩ $6 + 6 = 12$
- ⑪ $7 + 7 = 14$
- ⑫ $4 + 7 = 11$
- ⑬ $9 + 9 = 18$
- ⑭ $8 + 6 = 14$
- ⑮ $6 + 9 = 15$
- ⑯ $2 + 9 = 11$
- ⑰ $8 + 8 = 16$
- ⑱ $7 + 5 = 12$
- ⑲ $9 + 7 = 16$
- ⑳ $3 + 9 = 12$

⑨

- ㉑ $7 + 6 = 13$
- ㉒ $9 + 5 = 14$
- ㉓ $9 + 8 = 17$
- ㉔ $5 + 9 = 14$

㉒ みゆさんは おりがみを 8まい
もっています。せりさんは 7まい もつ
ています。ふたり あわせて おりがみ
は なんまいに なりますか。⑨

しき $8 + 7 = 15$

こたえ 15まい

㉓ こうえんで こどもが 6にん あそ
んでいます。そこへ、5にん きました。
こどもは、みんなて なんにんですか。⑮

しき $6 + 5 = 11$



こたえ 11にん

㉔ さかあがりの れんしゆうを しまし
た。あざに 6かい、ひるから 8かい
できました。あわせて なんかい でき
ましたか。⑱

しき $6 + 8 = 14$




こたえ 14かい

たしざんかな
ひきざんかな(1)

なまえ

㊦ にわとりがきのう たまごを 6こ うみました。きょうは、7こ うみました。あわせて なんこに なりましたか。

しき $6 + 7 = 13$



こたえ 13こ

㊦ ケーキが 12こ あります。9にん の こどもが 1こずつ たべます。ケーキは、 なんこ ありますか。

しき $12 - 9 = 3$



こたえ 3こ

㊦ 13ぼんの くじが あります。そのうち 5ぼんが あたり です。はずれの くじは なんぼんですか。

しき $13 - 5 = 8$

こたえ 8ぼん

㊦ にわに あかい はなが 7こ、しろい はなが 9こ さき ました。あわせて なんこ さいたでしょうか。

しき $7 + 9 = 16$



こたえ 16こ

たしざんかな
ひきざんかな(2)

なまえ

㊦ わたしは たこやきを 8こ、いもうとは 7こ たべま した。ふたり あわせて なんこ たべたでしょうか。

しき $8 + 7 = 15$



こたえ 15こ

㊦ エレベーターに 9にん のっています。つぎの かいて 4 にん のりました。エレベーターの なかは なんにんに なり ましたか。

しき $9 + 4 = 13$

こたえ 13にん

㊦ なつやすみに りんさんは 7さつ ほんを よみました。も もかさんは りんさんより 4さつ おおく よみました。もも かさんは なんさつ ほんを よんだでしょうか。

しき $7 + 4 = 11$



こたえ 11さつ

㊦ バスに おきゃくが 15にん のっていました。つぎの バ スでいて 7にん おりました。バスの なかは なんにんに なりましたか。




しき $15 - 7 = 8$




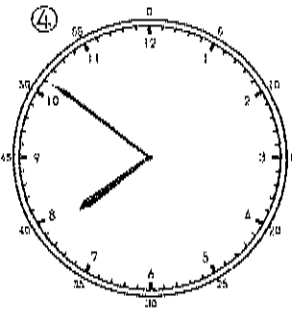
こたえ 8にん

とけい②(2) なまけ

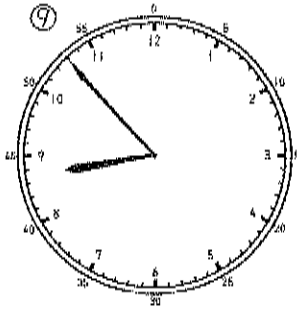
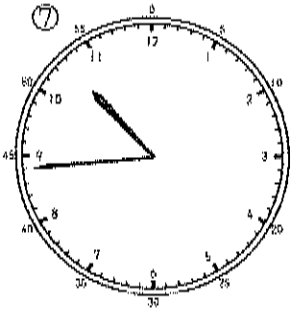
● なんじ なんぷんでしょう。



(4)じ(41)ぷん(11)じ(58)ぷん(6)じ(3)ぷん



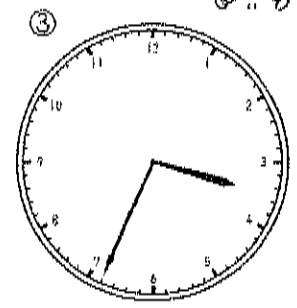
(7)じ(51)ぷん(12)じ(59)ぷん(2)じ(12)ぷん



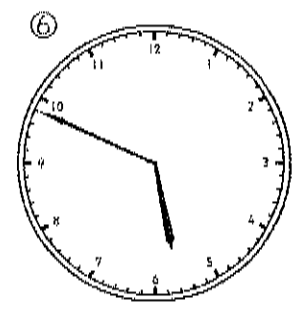
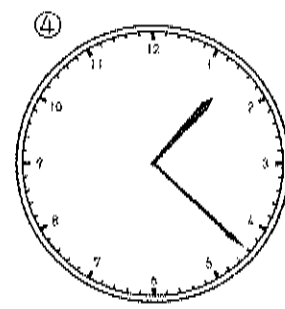
(10)じ(44)ぷん(5)じ(38)ぷん(8)じ(53)ぷん

とけい②(3) なまけ

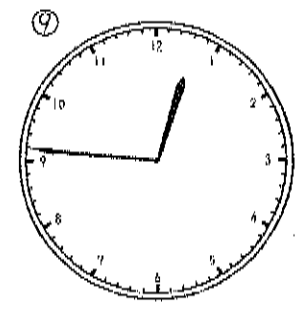
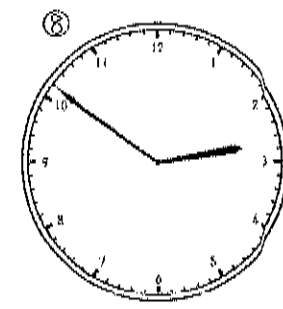
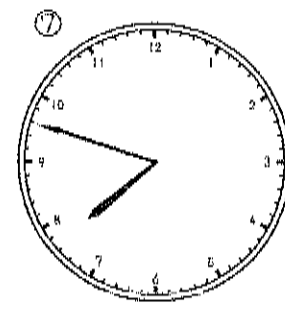
● なんじ なんぷんでしょう。



(9)じ(52)ぷん(10)じ(57)ぷん(3)じ(34)ぷん



(1)じ(22)ぷん(11)じ(11)ぷん(5)じ(49)ぷん



(7)じ(48)ぷん(2)じ(51)ぷん(12)じ(46)ぷん

ちからだめし・ひきざん くりさがり

なまえ

□ けいさんを しましょう。(3×24)

- ① $6-8=8$
- ② $3-4=9$
- ③ $4-6=8$
- ④ $1-9=2$
- ⑤ $2-7=5$
- ⑥ $6-7=9$
- ⑦ $2-9=3$
- ⑧ $3-5=8$
- ⑨ $1-4=7$
- ⑩ $7-8=9$
- ⑪ $2-6=6$
- ⑫ $5-8=7$
- ⑬ $1-7=4$
- ⑭ $4-9=5$
- ⑮ $5-6=9$
- ⑯ $3-6=7$
- ⑰ $2-5=7$
- ⑱ $1-2=9$
- ⑲ $6-9=7$
- ⑳ $3-7=6$

㊦

- ㉑ $8-9=9$
- ㉒ $4-7=7$
- ㉓ $1-6=5$
- ㉔ $3-9=4$

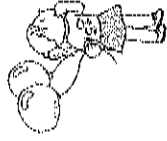
㉒ しろと ちやいろの たまごが あわ
せて 16こ あります。そのうち しろ
い たまごは 9こです。ちやいろの
たまごは なんこ ありますか。 (10)

しき $16-9=7$

こたえ $7こ$

㉓ ふうせんが 11こ あります。4こ
とんで いきました。ふうせんは の
こり なんこに なりましたか。 (10)

しき $11-4=7$



こたえ $7こ$

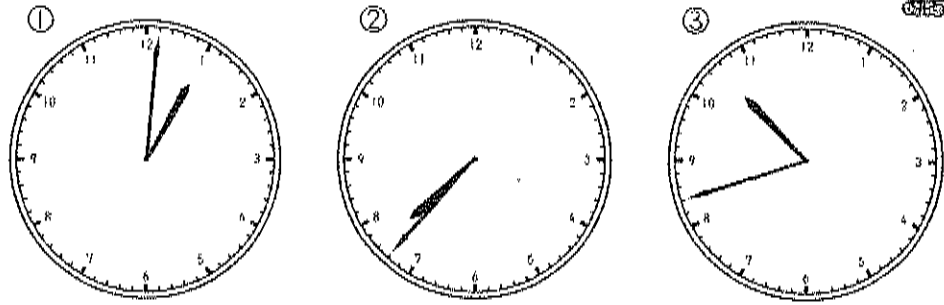
㉔ あかい はなが 15ほん さいてい
ます。きいろい はなが 7ほん さ
いでいます。あかい はなは きいろ
い はなより なんほん おおい
か。 (10)

しき $15-7=8$

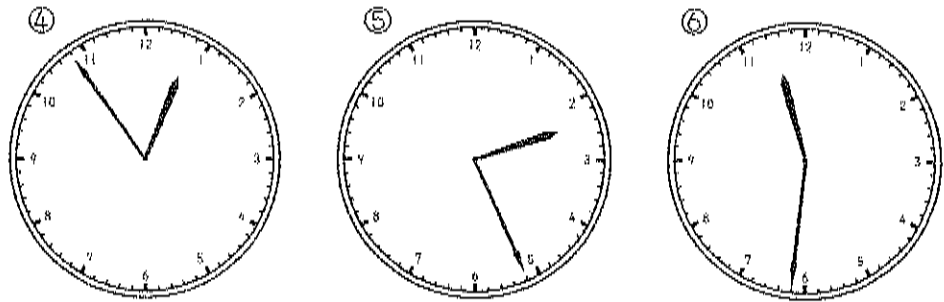
こたえ $8ほん$
あかい

とけい②(4) なまえ

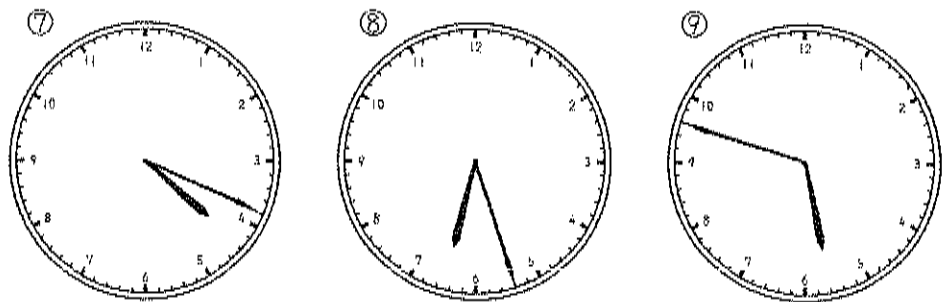
● なんじ なんぷんてしょう。



(1)じ(7)ぷん (7)じ(37)ぷん (10)じ(42)ぷん



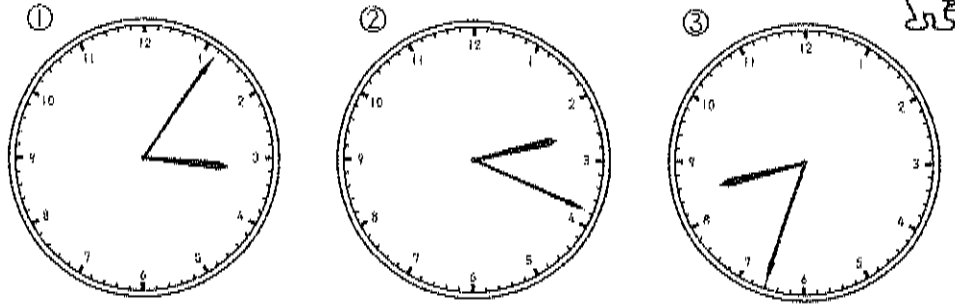
(12)じ(54)ぷん (2)じ(26)ぷん (11)じ(31)ぷん



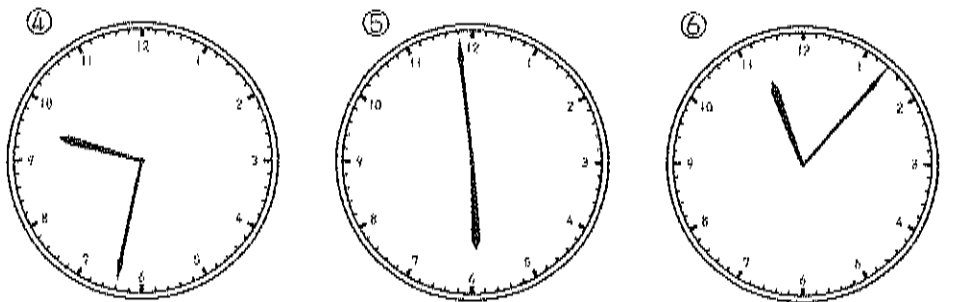
(4)じ(19)ぷん (6)じ(27)ぷん (5)じ(48)ぷん

とけい②(5) なまえ

● なんじ なんぷんてしょう。



(3)じ(6)ぷん (2)じ(19)ぷん (8)じ(33)ぷん



(9)じ(32)ぷん (5)じ(59)ぷん (11)じ(7)ぷん



(6)じ(39)ぷん (11)じ(56)ぷん (1)じ(2)ぷん

ひきざん 5

くりさがり 50もん

なまえ

- | | | |
|-----------|-----------|-----------|
| ① $4-9=5$ | ② $1-6=5$ | ③ $4-8=6$ |
| ④ $5-8=7$ | ⑤ $5-7=8$ | ⑥ $6-9=7$ |
| ⑦ $2-7=5$ | ⑧ $7-8=9$ | ⑨ $3-8=5$ |
| ⑩ $6-9=7$ | ⑪ $2-6=6$ | ⑫ $3-4=9$ |
| ⑬ $2-4=8$ | ⑭ $4-5=9$ | ⑮ $7-9=8$ |
| ⑯ $3-8=5$ | ⑰ $7-8=9$ | ⑱ $2-5=7$ |
| ⑲ $1-3=8$ | ⑳ $5-9=6$ | ㉑ $3-7=6$ |
| ㉒ $4-6=8$ | ㉓ $1-2=9$ | ㉔ $1-4=7$ |
| ㉕ $5-6=9$ | ㉖ $2-9=3$ | ㉗ $6-7=9$ |
| ㉘ $3-9=4$ | ㉙ $8-9=9$ | ㉚ $2-8=4$ |
| ㉛ $1-5=6$ | ㉜ $6-8=8$ | ㉝ $3-6=7$ |
| ㉞ $1-7=4$ | ㉟ $7-9=8$ | ㊱ $6-8=8$ |
| ㊲ $2-3=9$ | ㊳ $2-4=8$ | ㊴ $3-8=5$ |
| ㊵ $7-8=9$ | ㊶ $3-6=7$ | ㊷ $4-6=8$ |
| ㊸ $1-5=6$ | ㊹ $2-7=5$ | ㊺ $1-8=3$ |
| ㊻ $3-5=8$ | ㊼ $5-6=9$ | ㊽ $3-9=4$ |
| ㊾ $3-6=5$ | ㊿ $4-7=7$ | |



ひきざん 6

くりさがり 50もん

なまえ

- | | | |
|-----------|-----------|-----------|
| ① $3-5=8$ | ② $6-7=9$ | ③ $5-8=7$ |
| ④ $1-7=4$ | ⑤ $7-8=9$ | ⑥ $3-8=5$ |
| ⑦ $7-9=8$ | ⑧ $0-7=3$ | ⑨ $1-4=7$ |
| ⑩ $3-6=7$ | ⑪ $2-4=8$ | ⑫ $4-7=7$ |
| ⑬ $5-9=6$ | ⑭ $4-9=5$ | ⑮ $1-6=5$ |
| ⑯ $1-8=3$ | ⑰ $7-8=9$ | ⑱ $6-9=7$ |
| ⑲ $3-6=7$ | ⑳ $1-3=8$ | ㉑ $5-7=8$ |
| ㉒ $5-8=7$ | ㉓ $2-7=5$ | ㉔ $4-9=5$ |
| ㉕ $2-9=3$ | ㉖ $6-7=9$ | ㉗ $2-3=9$ |
| ㉘ $4-7=7$ | ㉙ $3-4=9$ | ㉚ $8-9=9$ |
| ㉛ $5-6=9$ | ㉜ $0-6=4$ | ㉝ $3-7=6$ |
| ㉞ $3-6=7$ | ㉟ $4-8=6$ | ㊱ $2-8=4$ |
| ㊲ $8-9=9$ | ㊳ $3-8=5$ | ㊴ $6-8=8$ |
| ㊵ $1-5=6$ | ㊶ $2-5=7$ | ㊷ $4-8=6$ |
| ㊸ $3-7=6$ | ㊹ $4-6=8$ | ㊺ $3-9=4$ |
| ㊻ $2-6=6$ | ㊼ $7-9=8$ | ㊽ $2-6=6$ |
| ㊾ $4-5=9$ | ㊿ $4-7=7$ | |



ひきざん 7

(くりさがり) 50もん

な
ま
ま
え

- | | | |
|-----------|-----------|-----------|
| ① $2-6=6$ | ② $5-9=6$ | ③ $2-4=8$ |
| ④ $3-8=5$ | ⑤ $1-8=3$ | ⑥ $4-8=6$ |
| ⑦ $1-5=6$ | ⑧ $6-7=9$ | ⑨ $6-9=7$ |
| ⑩ $4-8=6$ | ⑪ $3-9=4$ | ⑫ $3-8=5$ |
| ⑬ $5-9=6$ | ⑭ $4-9=5$ | ⑮ $1-7=4$ |
| ⑯ $4-9=5$ | ⑰ $2-5=7$ | ⑱ $5-7=8$ |
| ⑲ $1-4=7$ | ⑳ $8-9=9$ | ㉑ $4-5=9$ |
| ㉒ $2-9=3$ | ㉓ $6-8=8$ | ㉔ $3-4=9$ |
| ㉕ $3-7=6$ | ㉖ $7-9=8$ | ㉗ $7-8=9$ |
| ㉘ $5-8=7$ | ㉙ $2-7=5$ | ㉚ $1-3=8$ |
| ㉛ $3-6=7$ | ㉜ $4-9=5$ | ㉝ $2-8=4$ |
| ㉞ $6-8=8$ | ㉟ $5-6=9$ | ㊱ $3-5=8$ |
| ㊲ $3-7=6$ | ㊳ $3-9=4$ | ㊴ $6-9=7$ |
| ㊵ $2-5=7$ | ㊶ $1-6=5$ | ㊷ $1-2=9$ |
| ㊸ $7-9=8$ | ㊹ $4-7=7$ | ㊺ $4-6=8$ |
| ㊻ $4-7=7$ | ㊼ $8-9=9$ | ㊽ $1-9=2$ |
| ㊾ $1-5=6$ | ㊿ $6-7=9$ | |



ひきざん 8

(くりさがり) 50もん

な
ま
ま
え

- | | | |
|-----------|-----------|-----------|
| ① $1-2=9$ | ② $2-4=8$ | ③ $5-8=7$ |
| ④ $6-7=9$ | ⑤ $4-9=5$ | ⑥ $6-9=7$ |
| ⑦ $7-9=8$ | ⑧ $8-9=9$ | ⑨ $3-7=6$ |
| ⑩ $1-5=6$ | ⑪ $3-9=4$ | ⑫ $5-6=9$ |
| ⑬ $7-9=8$ | ⑭ $5-7=8$ | ⑮ $1-4=7$ |
| ⑯ $4-7=7$ | ⑰ $2-3=9$ | ⑱ $3-6=7$ |
| ⑲ $1-9=2$ | ⑳ $5-8=7$ | ㉑ $3-7=6$ |
| ㉒ $5-6=9$ | ㉓ $4-8=6$ | ㉔ $5-9=6$ |
| ㉕ $4-9=5$ | ㉖ $1-4=7$ | ㉗ $1-7=4$ |
| ㉘ $3-8=5$ | ㉙ $5-7=8$ | ㉚ $3-4=9$ |
| ㉛ $2-3=9$ | ㉜ $4-5=9$ | ㉝ $7-8=9$ |
| ㉞ $4-6=8$ | ㉟ $6-7=9$ | ㊱ $2-8=4$ |
| ㊲ $4-5=9$ | ㊳ $7-9=8$ | ㊴ $2-5=7$ |
| ㊵ $1-3=8$ | ㊶ $2-6=6$ | ㊷ $6-9=7$ |
| ㊸ $3-5=8$ | ㊹ $3-4=9$ | ㊺ $1-6=5$ |
| ㊻ $6-8=8$ | ㊼ $8-9=9$ | ㊽ $4-8=6$ |
| ㊾ $2-7=5$ | ㊿ $4-7=7$ | |

